


一一、數數看看，比一比：每

格是2分，共18分

1. 數數看看，先寫出數字，再畫出樣樣多的○。



種類	數字	畫	圈
	3	000	
	4	0000	
	5	00000	
	9	000000000	

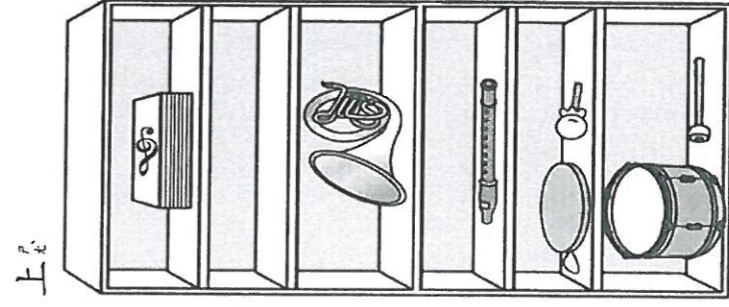
2. 看上面圖，圈出看：

- (1) 比較多。
- (2) 比較少。

二二、看圖填看看：每答2

分，共30分


1. 從上往下列數



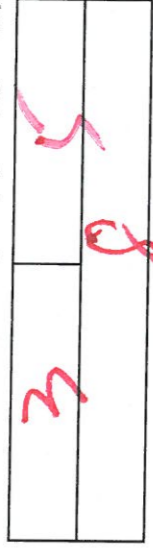
- (1) 櫃子一共有 (6) 層。
- (2) 第 (2) 層是空的。
- (3) 放在第 (4) 層。
- (4) 小鼓放在第 (6) 層。

下

2. 把球分成2堆，先分一分，再填填看看。



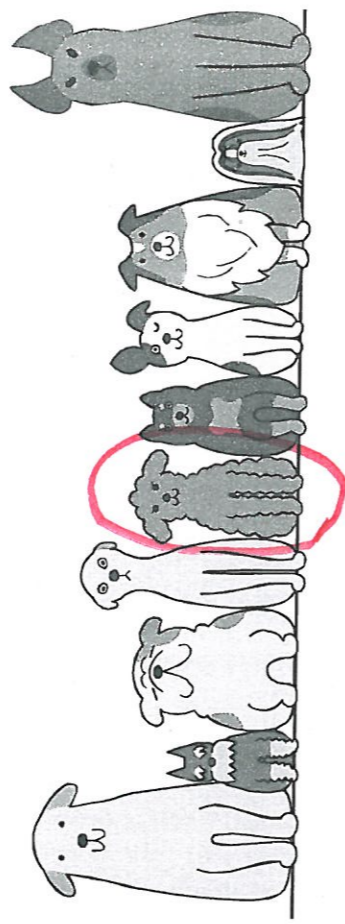
3.



4. 做做看看；

(1) 從右邊數，把第6隻動物圈起來


起



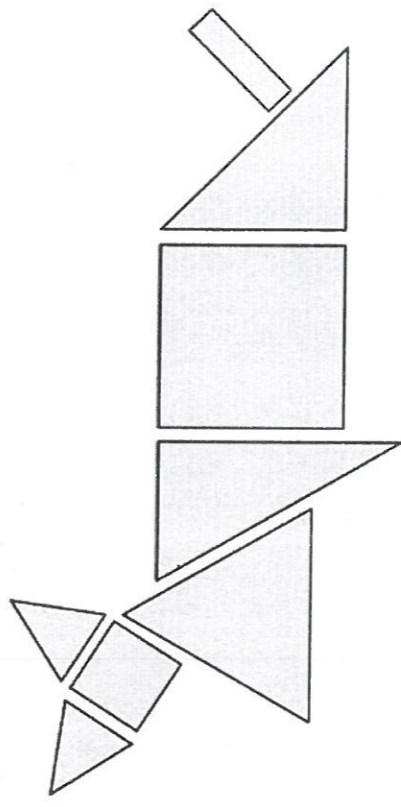
左邊

右邊

(2) 把5個杯子圈起來

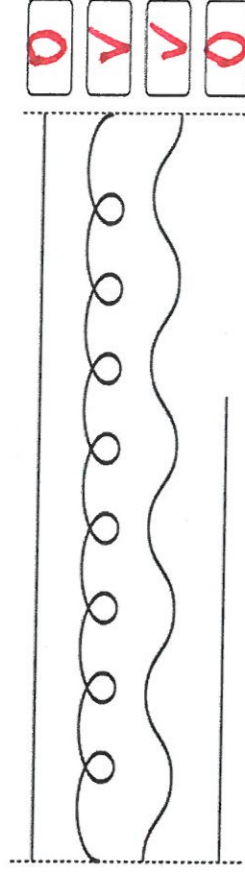


5. 數數看看，每種形狀有幾個？




- (1) 長方形有 (1) 個。
- (2) 正方形有 (2) 個。
- (3) 三角形有 (5) 個。
- (4) 圓形有 (0) 個。

三、哪些是直線？請打○；哪些是曲線？請畫V：每題2分，共8分



O V V O

四、看圖回答問題：每格2分，共14分



(1) 從左邊開始數：

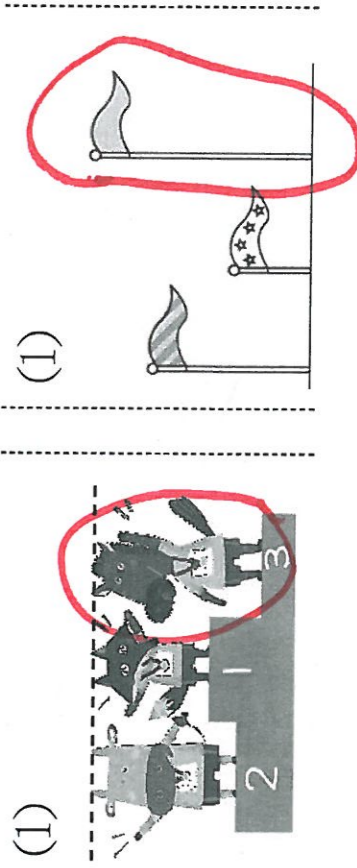
- 排在第(4)個。
- 排在第7個的是()。
- 從右邊開始數，排在第5個的是()。
- 從左邊開始數，排在第(6)個的全部有(8)個小朋友，桌上有(9)個。一個小朋友拿一個，夠不夠？(夠，不夠)。

五、看圖圈出看：共12分


1. 樂譜的哪一邊比較短？



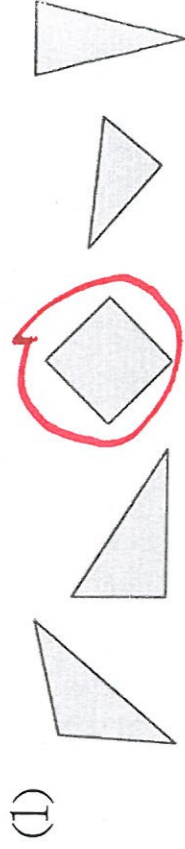
2. 把最高的圈起來。



3. 最厚的樂譜圈起來



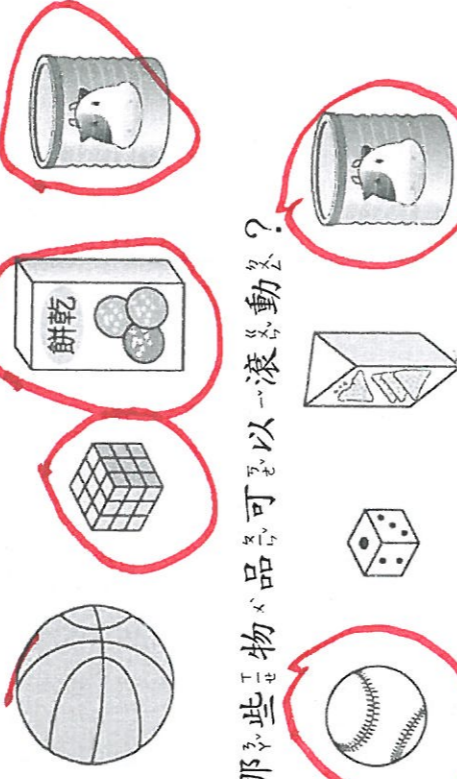
4. 哪一個形狀不一樣？圈出看



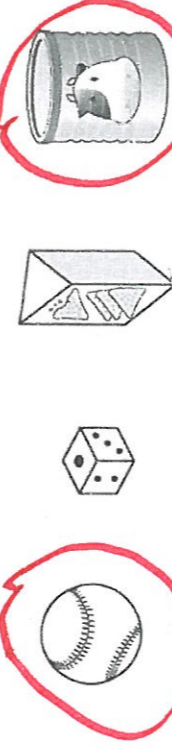
(1)

(2)

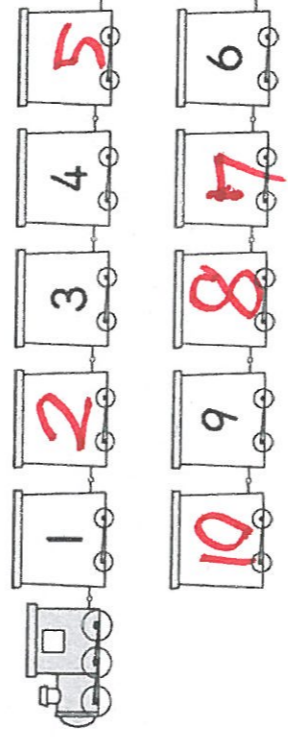
5. 哪些物品有平平的面？



6. 哪些物品可以滾動？



六、按照數的順序填填看看。共12分



- 4和6的中間是(5)
- 8的後面10前面是(9)
- 6的後面是(7)，從6倒數

數回來最小的數字是(1)

七、把文具數量合起來是10的

連起來：每題2分，共6分

