

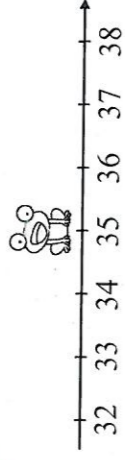
三年 班 座號：

姓名：

一、填充題(1-22 每格 1 分，23-26 每格 2 分，共 50 分)


1. 君君的生日是 11 月 4 日，再過 5 天就是青青的生日，青青的生日再過一星期就是美美的生日，請問美美的生日是 (11) 月 (16) 日

2. 有一隻青蛙在數線上，從 35 開始，先向左跳 10 格後，再向右跳 15 格，這隻青蛙最後會停在哪一個數字上？ (40)

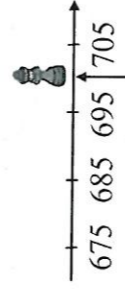


3. 請圈出正確的答案：在數線上，564 在 546 的 (右邊)，左邊)，表示 564 比 546 (大)，小)

4. 小鳥依照順序飛，一次飛一個間隔到另一棵樹上，從第 29 棵樹飛到第 41 棵樹，小鳥共飛了 (12) 次

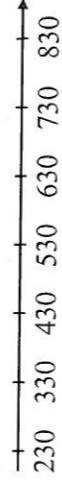


5. 一顆黑棋子擺在下面的數線上，黑棋子的數字可能是 (700)，以下 3 個數選 1 個 (690, 700, 715)



6. 有一個四位數，比 5468 小，比 5459 大，這個數的十位數字是 (6)

7. 黃狗和黑狗賽跑，都從 330 向右跑，現在黃狗在黑狗左邊，誰跑的比較遠？ (黑狗)



8. 按照數字的順序填填看

8998 → 8999 → (9000) → (9001)

9. 按照數的順序填填看

(2990) → (3000) → 3010 → 3020

10. 按照數的順序填填看

(5910) → 6010 → 6110 → (6210)

11. 6 個千、2 個十和 7 個一合起來是 (6027)，讀作 (六千零二十七)

12. 8205 是 (8) 個千、2 個百、(0) 個十和 5 個一，讀作 (八千二百零五)

13. 一個平年加一個閏年共有 (731) 天

14. 把下面的數由大到小用數字排列出來，並填入 () 中

ㄅ. 三千六百 ㄆ. 三千零六 ㄇ. 三千零六十 (3600) > (3060) > (3006)

15. 用 4、5、6、9 排出兩個四位數，數字不能重複，這兩個四位數都要比 9000 大，比 9500 小，這兩個數字是 (9456) 和 (9465)

16. 已知 $39 \times \text{甲} = 13 \times \text{乙}$ ，甲和乙哪一個數比較大？ (乙)

17. 把 50 連加 6 次的結果，用乘法寫下橫式算式 ($50 \times 6 = 300$)

18. 一條長 20 公分的繩子夠不夠圍一個長 5 公分，寬 3 公分的長方形周界？ (夠) (請回答夠或不夠)

19. 請問多啦 A 夢有 (3205) 元



20. 下圖每一個小方格的邊長都是 1 公分，回答下面問題。




(1) 圖甲的周長 (12) 公分
(2) 圖乙的周長 (10) 公分

21. 圈出沒有周界的圖形

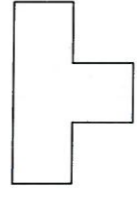
(1)



(2)



(3)



22. 愛畫圖的小精靈拿起彩筆一揮，畫出了一朵雲和一些小星星。

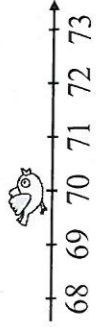


(1) 用色筆描出雲朵圖形的周界。


(2) 數一數，在雲朵內部的小星星有 (7) 顆

(3) 數一數，在雲朵周界上的小星星有 (6) 顆

23. 小鳥先往右飛5格，再往左飛10格，最後停在70，小鳥開始時是停在哪一個數? (75)



24. 下圖數線上標示了3個數，分別是甲、乙、丙，甲在乙的右邊，丙在乙的左邊，則甲數是(999)，乙數是(611)，丙數是(501)



26. 在 中填入數字

$$\begin{array}{r} 620 \\ - 265 \\ \hline 3548 \end{array}$$

二、計算題(每題3分共18分)

1. $5217 + 3955 = 9172$
 2. $5403 - 4886 = 517$

3. $7000 - 1952 = 5048$
 4. $419 \times 9 = 3771$

5. $925 \times 6 = 5550$
 6. $893 \times 7 = 6251$

三、應用題(共32分)

1. 有一個正方形和一個正三角形的邊長都是145公分，請問這兩個圖形的周長總共是幾公分?

$$4 + 3 = 7$$

$$145 \times 7 = 1015$$

A: 1015公分

2. 有一個長325公尺、寬比長少25公尺的長方形農田，請問農田的周長是幾公尺?

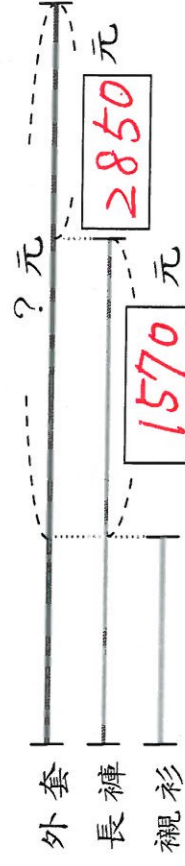
$$325 - 25 = 300$$

$$325 + 300 = 625$$

$$625 \times 2 = 1250$$

A: 1250公尺

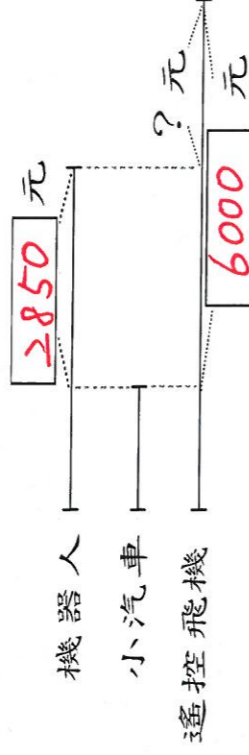
3. 外套比長褲貴2850元，長褲比襯衫貴1570元，外套比襯衫貴幾元? 先完成線段圖填空，再做做看。



$$1570 + 2850 = 4420$$

A: 4420元

4. 機器人比小汽車貴2850元，遙控飛機比小汽車貴6000元，遙控飛機比機器人貴多少元?



$$6000 - 2850 = 3150$$

A: 3150元

5. 媽媽上星期買菜花了4003元，這星期的菜錢比上星期少了1485元，媽媽這星期買菜花了幾元? 這兩星期共花了多少菜錢?

$$4003 - 1485 = 2518$$

$$4003 + 2518 = 6521$$

A: 6521元

6. 大熊想把3890顆糖果裝成7箱，每箱裝580顆，請問糖果不夠幾顆?

$$580 \times 7 = 4060$$

$$4060 - 3890 = 170$$

A: 170顆

7. 哥哥有150顆彈珠，弟弟的彈珠是他的5倍，妹妹的彈珠是他的3倍，弟弟和妹妹二人合起來共有幾顆彈珠? 弟弟比妹妹多幾顆彈珠?

$$① 5 + 3 = 8$$

$$150 \times 8 = 1200$$

$$② 5 - 3 = 2$$

$$150 \times 2 = 300$$

A: ① 1200顆 ② 300顆