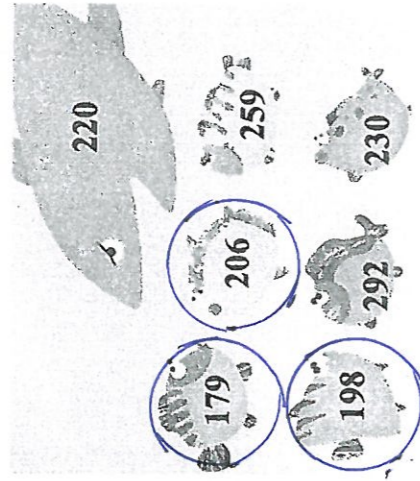


一、做題看看：

1. 大白鯊餓了，牠可以「吃掉」數字，比牠「小」的魚。大白鯊可以「吃掉」的魚「圈」起來。(6分)




2. 美工刀長幾公分？(2分)



( 6 ) 公分

3. 將左邊容器裡的水，倒入右邊的容器裡，哪一個水面比較高？在( )裡打V。(2分)



( ) ( V )

4. 下面哪一個數最接近正確答案？

在  中打V：(4分)


(1) 小狗和兔子的身高「加」起來大約是幾公分？

60 公分  70 公分  80 公分

(2) 山羊豬和猴子的身高「相」差大約幾公分？

20 公分  30 公分  40 公分

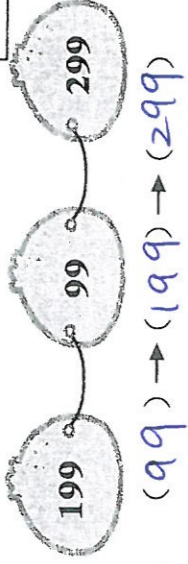
5. 用  100、 10 和  1 表示 234。(4分)



6. 畫一條 8 公分的直線。



7. 把下面各題的三個數由「小」排到「大」：



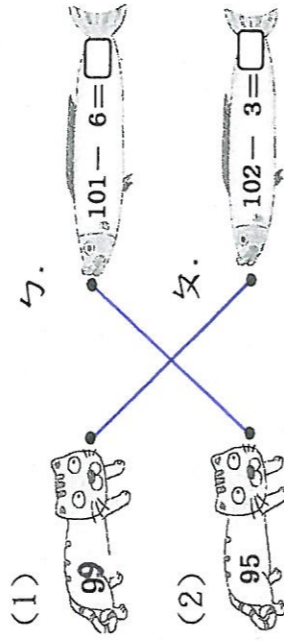
( 99 ) → ( 199 ) → ( 299 ) (3分)

8. 請在分定位板上記記看看。(3分)


2 個百和 18 個一合起來是多多少？

百位	十位	個位
2	1	8

9. 把答案相同的連起來。(4分)

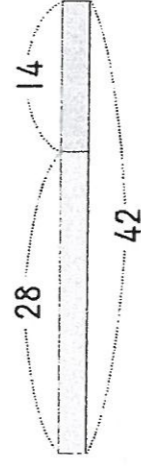


10. 狐狸、白熊和虎，誰的點數比較多？(狐狸)(3分)



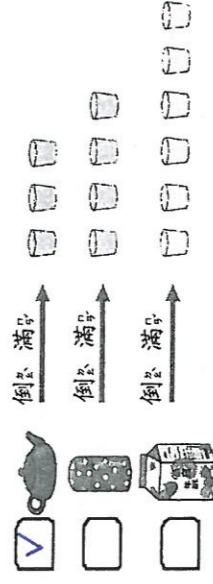
11. 看「28+14=42」的算式，寫出( )

中差的數是多多少？(4分)

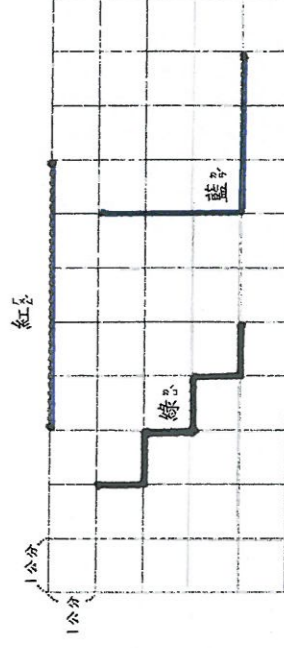


(1)  $42 - 28 = ( 14 )$   
(2)  $42 - 14 = ( 28 )$

12. 容量最少的在  中打V。(2分)



13. 綠繩長( 6 )公分，紅繩長( 5 )公分，藍繩長( 6 )公分。(6分)



二、素養考題：

1. 忠孝國小舉舉辦跳繩比賽，二年級五班的吳老師為了讓學生取得好成績，規定全班每個學生每天跳繩至少跳100下。已知香、美、兩兩個人的跳繩結果如下：(4分)
- (1) 美早上午跳39下，下午跳52下。  
 (2) 香早上午跳51下，下午跳62下。  
 (3) 請問，那個學生符合老師的要求？

(香)

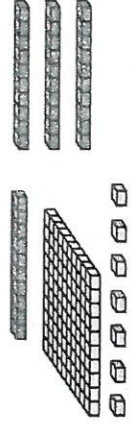
2. 老師請同學喝飲料，小花、小雨和美都準備了自己的杯子，每人都用自己的方法分飲料，下面哪幾個的說法是正確的？正確的打○，錯誤打×：(6分)




- (1) (×) 每一杯都倒到滿，就是每一杯都多。  
 (2) (○) 用小花的杯子先倒一杯，再倒到他人的杯子，這樣每杯都能夠多。  
 (3) (×) 每一杯都倒到一樣高，就是每一杯都多。

三、填填看看：(11分，每格1分)

1. 看看下面積木，有(1)個100、(4)個10和(7)個1，合起來就是(147)，讀作(一百四十七)。



2. 填入適當的數。



四、先用直式計算看看，再驗算。

- (1)  $80 - 67 = (13)$  (4分)

$$\begin{array}{r} 80 \\ -67 \\ \hline 13 \end{array}$$

驗算： $\begin{array}{r} 13 \\ +67 \\ \hline 80 \end{array}$

- (2)  $51 - 9 = (42)$  (4分)

$$\begin{array}{r} 51 \\ -9 \\ \hline 42 \end{array}$$

驗算： $\begin{array}{r} 42 \\ +9 \\ \hline 51 \end{array}$

十一、應用題：(25分)

1. 弟弟有95元，弟弟比哥哥少24元，哥哥有幾元？

$$95 + 24 = 119$$

$$\begin{array}{r} 95 \\ +24 \\ \hline 119 \end{array}$$

答：(119)元

2. 櫃子裡原有37條毛巾，店員又放進一些毛巾，櫃子裡現在有65條毛巾，店員放進幾條毛巾呢？

$$65 - 37 = 28$$

$$\begin{array}{r} 65 \\ -37 \\ \hline 28 \end{array}$$

答：(28)條

3. 媽媽今年50歲，姐姐比媽媽少28歲，姐姐今年幾歲？

$$50 - 28 = 22$$

$$\begin{array}{r} 50 \\ -28 \\ \hline 22 \end{array}$$

答：(22)歲

4. 商店裡有葡萄汽水35罐，其中蘋果汁有13罐，葡萄汽水有幾罐？

$$35 - 13 = 22$$

$$\begin{array}{r} 35 \\ -13 \\ \hline 22 \end{array}$$

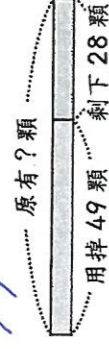
答：(22)罐

5. 桌上有11個蘋果，昨天用掉49顆，今天還剩下28顆，原有幾顆蘋果？

異果？

$$49 + 28 = 77$$

$$\begin{array}{r} 49 \\ +28 \\ \hline 77 \end{array}$$



答：(77)顆