


一、畫○算算看並寫出答案：8分

(1) $4+4=$ (8)



(2) $3+6=$ (9)



(3) $7-5=$ (2)



(4) $9-3=$ (6)



二、填入適當的數：8分

1. $21 - 20 = 19 - 18 = 17 - 16 = 15$

2. $24 - 25 = 26 - 27 = 28 - 29 = 30$

三、加減算法算式：6分

(1) $10+0=$ (10) (2) $6+4=$ (10)

(3) $5+0=$ (5) (4) $8-3=$ (5)

(5) $9-7=$ (2) (6) $10-8=$ (2)

四、看圖填填看：23分

1. 下圖是 2 人同一天不同時間出門，先寫出正確的時時間，再圈出圖看。

 下午 (6) 點	 上午 (8) 點
奶奶出門	小欣出門

(奶奶) 比較晚出門。

2. 寫出算式做做看。

$(2) + (5) = (7)$	

3. 白色星星比灰色星星多幾個？

$(8) - (3) = (5)$

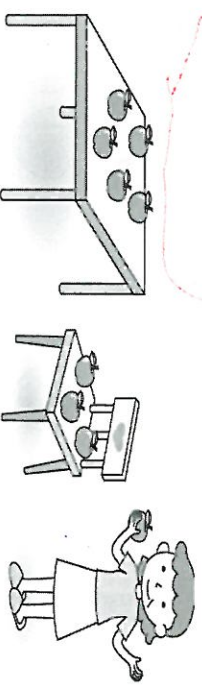
4. 按照數的順序由小到大填填看。

18 23 29 12 \rightarrow 12 18 23 29

5. 爸爸買了一盒雞蛋，這盒雞蛋共有

(10) 顆。做番茄炒蛋時，用掉了 4 顆，剩下 (6) 顆雞蛋。

6. 看圖回答問題。



(1) 桌上有 (5) 顆椅子，椅子上有

(3) 顆蘋果，媽媽拿著 (1) 顆。

(2) 桌上的蘋果比媽媽手上的多 (4) 顆。

(4) 顆。

7. (2) 條和 10 個，是 30。

8. 小妹妹生日收到禮物，請用 1、2、3 來表示事情發生的先後順序。

拆禮物	收禮物	玩禮物
(2)	(1)	(3)

五、把正確的時時間連起來：12分

1.	2.	3.	4.
5.	6.	7.	8.

六、圈出看：16分

1. 兩個數加起來是 10 的圈起來 (2分)

(2 , 7 , 3 , 9)

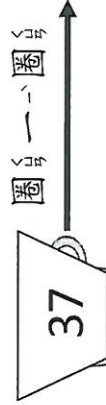
2. 從 10 順著數，圈出會先數到的數字

(1) 30 , (21) (2) 16 , 19

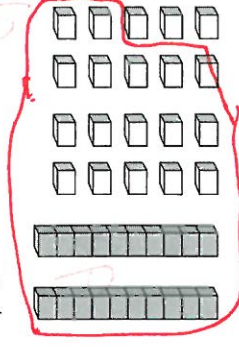
3. 把答案填在 8 的算式裏圈起來。(6 分)

- $9-1$ $6+3$ $5+5$
 $10-2$ $0+8$ $8+2$

4. 圈出正確數量的積木。



圈出一個



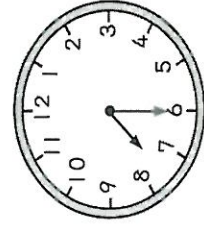
5. 共有幾個愛心? 圈出正確的算式



($4+3=7$, $6-2=4$, $2+6=8$)

七、勾選題: 6 分

1. 把正確的時問打 。



- ① 6 點半
 ② 7 點半
 ③ 8 點半

2. 做哪一件事花的時間比較短打 。

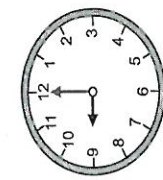
① 擦臉



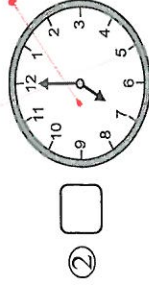
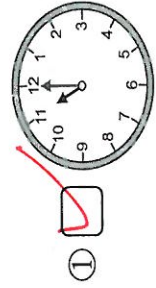
② 洗頭



3. 正確的時問打 。



長針走 2 圈



八、做題看: 5 分

1. 把 10 台、10 台圈起來, 再寫出有多少?




有 (28) 輛玩具車

2. 蛋糕店有 14 個, 有 11 個,

比較少還是比較多?

畫 比較少, 再圈出答案。(3 分)



0000000000



0000000000

(,) 比較少

九、畫算式看, 用算式記下來: 6 分

1. 弟弟有 7 顆糖果, 妹妹又送他 3 顆, 弟弟現在有幾顆糖果?

畫 : 000000 000

算式: $7+3=10$

有 (10) 顆糖果

2. 校長手上有 9 枝鉛筆, 發給 4 個學生, 每人 1 枝, 還剩下幾枝鉛筆?

畫 : 00000000

算式: $9-4=5$

剩下 (5) 枝鉛筆

十、寫出算式做題看: 10 分

1. 教室有 4 個人, 又進來 5 個人, 現在教室裡有幾個人? (2 分)

算式: $4+5=9$

有 (9) 個人

2. 皮皮踢球遊戲, 第 1 次踢進 6 個球, 第 2 次踢進 4 個球, 兩次共踢進幾個球? (2 分)

算式: $6+4=10$

踢進 (10) 個球

3. 奶奶做了 8 個蔥油餅, 美美站在旁邊看了很久, 她一個也沒做, 現在有幾個蔥油餅? (3 分)

算式: $8+0=8$

有 (8) 個蔥油餅

4. 爺爺買了 10 枝冰棒, 給哥哥、弟弟和妹妹每人一枝, 爺爺還剩幾枝冰棒?

算式: $10-3=7$

有 (7) 枝冰棒