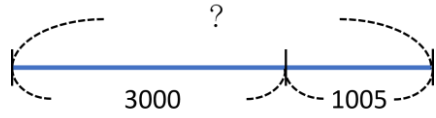


三年 \_\_\_\_\_ 班 座號： \_\_\_\_\_ 姓名： \_\_\_\_\_

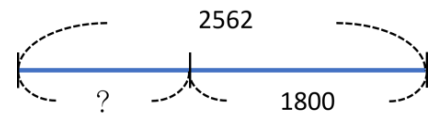
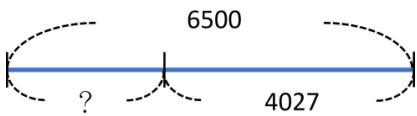
一、 計算題(每題 3 分，共 18 分)

1.  $57 \div 9 = ( 6 ) \cdots ( 3 )$       2.  $33 \div 8 = ( 4 ) \cdots ( 1 )$

3.  $42 \div 6 = ( 7 ) \cdots ( 0 )$       4.  $( 4005 ) - 3000 = 1005$

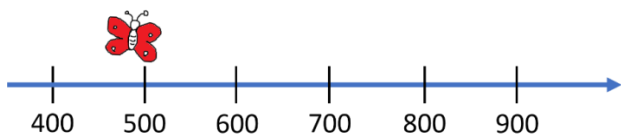


5.  $( 2473 ) + 4027 = 6500$       6.  $2562 - ( 762 ) = 1800$



二、 填充題(第 13 題一題 6 分，其他每格 1 分，共 46 分)

- 李伯伯想買一件 899 元的衣服，和一頂 397 元的帽子，如果都用百元鈔票付錢，他至少需要 ( 13 ) 張一百元才夠。
- 蝴蝶在數線上 497 的位置，向右飛了 198，最後會停在 800 的左邊還是右邊？ ( 左 ) 邊。



- 小路原有 1000 元，買了一本 450 元的書後，又買了一盒 180 元的蠟筆，他還剩幾元？ ( 370 ) 元。

- $45 \div 7 = 6 \cdots 3$ ，除數是 ( 7 )，餘數是 ( 3 )，被除數是 ( 45 )，商是 ( 6 )。

- 一個圓形杯墊，直徑是 16 公分，半徑是 ( 8 ) 公分。
- 王老闆共有 60 個鳳梨酥，每 8 個裝成一盒出售，共可以裝成 ( 7 ) 盒出售。

- 把最接近  $399 + 203$  的答案圈起來。(500, **600**, 700)

- 大華有 31 顆巧克力，分給小雲 15 顆後，老師又送給大華 27 顆，大華現在有 ( 43 ) 顆巧克力。

- $\frac{4}{5}$  讀作 ( 五分之四 )；這個分數的分子是 ( 4 )，分母是 ( 5 )。

- 把一條繩子對摺一次，打開後它會平分成 ( 2 ) 段，其中的 1 段是 (  $\frac{1}{2}$  ) 條繩子。

- 在 ( ) 中填入 <、= 或 >。

- 4 公升 800 毫升 ( < ) 5 公升 200 毫升
- 1300 毫升 ( > ) 1 公升 3 毫升
- 6680 毫升 ( > ) 6 公升 50 毫升
- 3 公升 27 毫升 ( = ) 3027 毫升

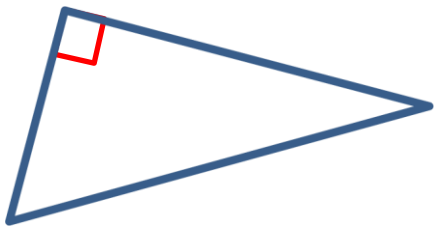
- 一瓶果汁剛好可以倒滿 5 個杯子；2 杯果汁是 (  $\frac{2}{5}$  ) 瓶，5 杯果汁是 (  $\frac{5}{5}$  ) 瓶。因此，我們可以知道： ( 5 ) (或 1)


$\frac{( 5 )}{5} = 1。$

- 請把正確的答案圈出來。(一題 6 分，共 12 分)

- 36 可以被哪些數整除？(5, **4**, 8, **6**, **9**, 7)
- 哪些數可以被 2 整除，也可以被 3 整除？  
( 8, **18**, 9, 22, 15, **24** )

14. 下圖是一個三角形。用三角板比比看，並回答問題。



- (1) 請在這個三角形中，找到直角，用  來表示。  
 (2) 這個三角形有( 1 )個直角，有( 2 )個角比直角小。


15. 一盒鳳梨酥有 8 塊。

(1) 5 塊鳳梨酥有 (  $\frac{5}{8}$  ) 盒。

(2)  $\frac{11}{8}$  盒是 ( 11 ) 塊鳳梨酥。

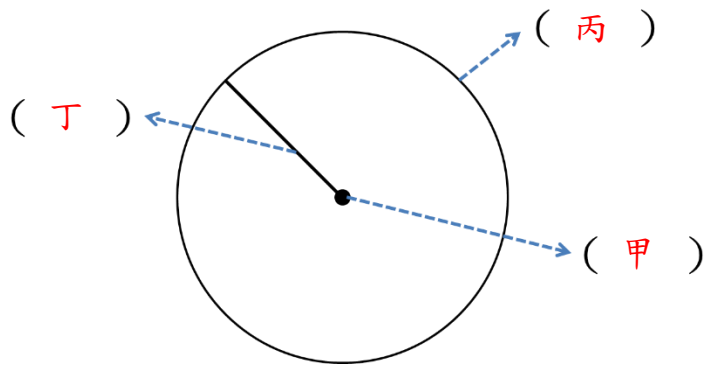
(3) 姊姊拿了 3 塊鳳梨酥，她是拿了 (  $\frac{3}{8}$  ) 盒

(4) 弟弟吃掉了  $\frac{2}{8}$  盒，他是吃掉了 ( 2 ) 塊鳳梨酥。

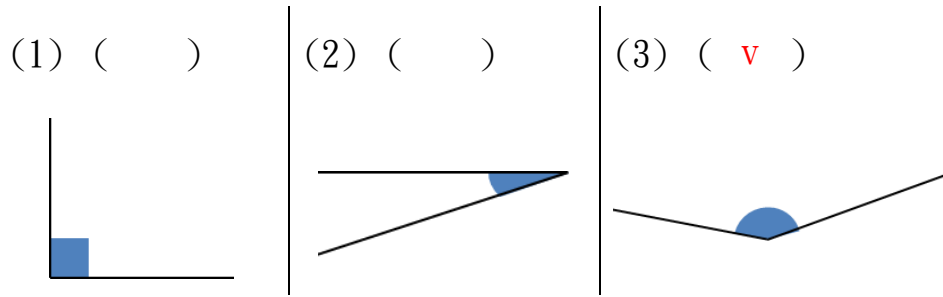


16. 請將正確名稱的代號，填入下面的( )中。

甲. 圓心
乙. 直徑
丙. 圓周
丁. 半徑



17. 下圖中，哪一個角最大？請在 ( ) 打  $\checkmark$ 。

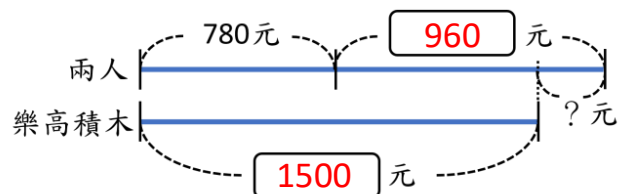


**三、 應用題(每題 6 分，共 36 分)**

1. 一組樂高積木定價 1500 元，琦琦有 780 元，莉莉有 960

元，兩人合買一組樂高積木後，她們還剩多少元？

(請先完成線段圖，並用一個算式記錄問題。)



$$780 + 960 - 1500 = 240$$

答：240 元

2. 班上有 27 人，體育課時，每 6 人分到一顆籃球，最少需要幾顆籃球才足夠？

$$27 \div 6 = 4 \dots 3$$


$$4 + 1 = 5$$

答：5 顆

3. 水壺裡原有 5 公升 680 毫升的奶茶，妹妹喝掉 1200 毫升後，還剩下幾公升幾毫升的奶茶？

答：4 公升 480 毫升

4. 一盒巧克力有 12 顆，姊姊吃了  $\frac{5}{12}$  盒，弟弟吃了  $\frac{4}{12}$  盒，還剩下多少顆巧克力？



答：3 顆

5. 弟弟昨天喝了 3 公升 670 毫升的水，今天喝了 1 公升 40 毫升的水，請問弟弟兩天共喝了幾公升幾毫升的水？

答：4 公升 710 毫升

6. 請依照題目指示，在下面的空白處畫出指定的圖案。

(1) 以黑點為圓心，用圓規畫一個直徑 4 公分的圓。

(依指示作畫即可)

(2) 以黑線為一邊，畫出一個比直角小的角。

(依指示作畫即可)

