


二年 _____ 班

座號 _____

姓名 _____

一、哪一個比較重？比較重的在 () 裡打 \checkmark ：每題 2 分，共 6 分

(1) (2)



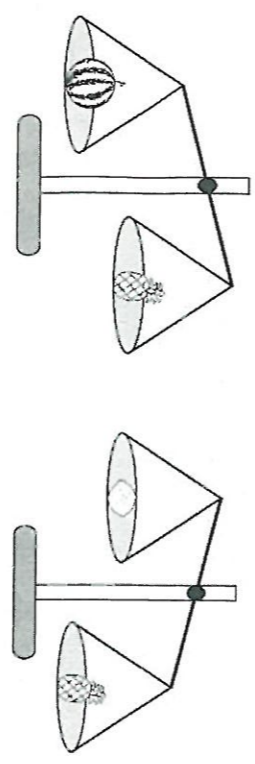
() (\checkmark) (\checkmark) ()

(3)



楊桃 芒果 一樣重

二、看圖比比看，並圈出看：每題 2 分，共 6 分



(1) 和 ， 哪一個比較輕？



(2) 和 ， 哪一個比較輕？



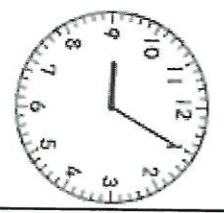
(3) 和 ， 哪一個最重？



三、填填看：每格 1 分，共 17 分

(1) 現在的時間是 9 點 5 分

，分針再走 1 小格，是 (9) 時 (6) 分。



(2) 「 $9 + 9 + 9 + 9 = 45$ 」，可以記成 (9) \times (5) = (45)。

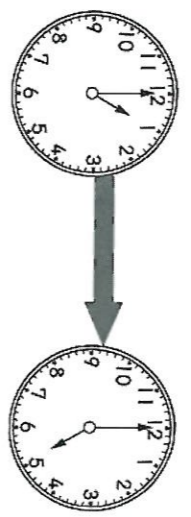
(3) $6 \times 7 = 42$ ，被乘數是 (6)，乘數是 (7)，積是 (42)。

(4) 1 個積木高 2 公分，5 個積木疊在一起的高度是 (10) 公分。

(5) 數學考試時間 40 分鐘，時間到才能交卷。現在是 8 時 20 分，要在 (9) 時 (0) 分交卷。

(6) 8 的 9 倍比 8 的 6 倍多 (3) 個 8，就是多 (24)。

(7) 從下午 1 時到下午 5 時，時針走了 (4) 大格，是經過了 (4) 小時。



(8) 曉華買 2 個紅豆餅，給老闆 2 個 5 元硬幣和 2 個 1 元硬幣，紅豆餅一個 (6) 元。

(9) 王子在灰姑娘家讓所有人試穿玻璃鞋，共花了幾分鐘？

(30) 分鐘




四、連連看，鐘面上是幾時幾分？每題 2 分，共 8 分



4:14



8:55




7:10



6:18

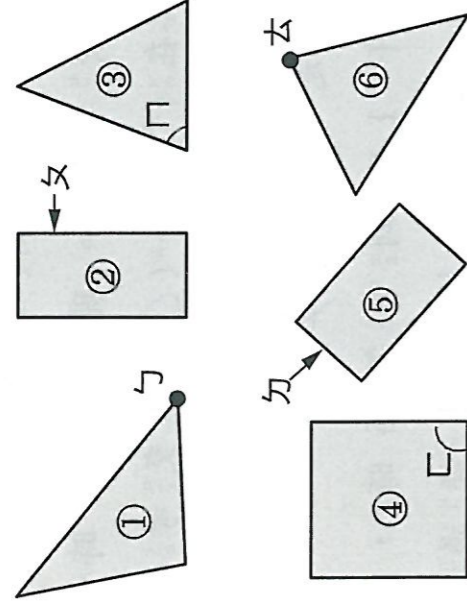
五、圈出看：把圖形有周界的圈起來？每題 2 分，共 8 分



背面還有試題喔！

六、看圖回答問題(填代號): 每

答 1 分, 共 13 分



- (1) 哪些圖形有 3 個邊? (1, 3, 6)
 (2) 哪些圖形有 4 個邊? (2, 4, 5)
 (3) 哪些圖形是長方形? (2, 5)
 (4) 哪些圖形是正方形? (4)
 (5) ㄅ 中, 哪些表示角? (3, 4)
 (6) ㄅ 中, 哪些表示頂點?
 (1, 6)

七、小琪和小山在草地上畫了一個圓圈, 玩丟沙包遊戲。每格 2 分, 共 6 分



有 (4) 個沙包完全丟進圓圈裡, 有 (3) 個沙包丟在圓圈外, 有 (3) 個沙包丟在圓圈上。

八、把做法用乘法算式記下來: 每題 5 分, 共 30 分

1. 大雄有 6 輛玩具車, 技安的玩具有車數量是大雄的 3 倍, 技安有幾輛玩具車?

$$6 \times 3 = 18$$

答: (18) 輛

2. 上體育課時, 老師將全班同學分成 4 組, 每組有 6 個人, 全班共有幾個人?

$$6 \times 4 = 24$$

答: (24) 人

3. 老師請小豪練習寫國語字。生字簿一面有 8 行, 1 行可以寫 5 個字, 小豪共要寫幾個字?

$$5 \times 8 = 40$$

答: (40) 個字

4. 媽媽做了 1 個長方形的蛋糕, 蛋糕上排了 4 排草莓, 每排有 3 顆, 共有幾顆草莓?

$$3 \times 4 = 12$$

答: (12) 顆

5. 1 個包子賣 7 元, 媽媽買 8 個包子, 共要付幾元?

$$7 \times 8 = 56$$

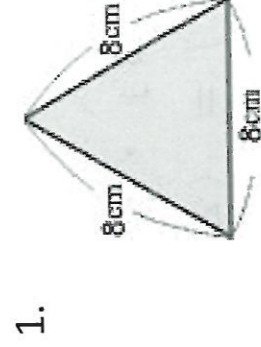
答: (56) 元

6. 小英每天存 9 元, 一星期可存多少元?

$$9 \times 7 = 63$$

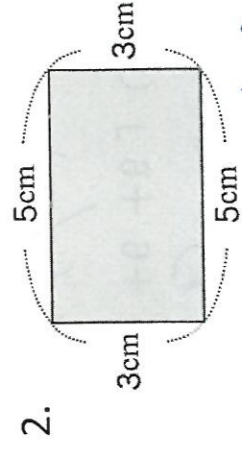
答: (63) 元

- 九、用算式算出下面圖形的周長: 每題 3 分, 共 6 分



算式: $8 + 8 + 8 = 24$
 $8 \times 3 = 24$

答: 24 cm



算式: $5 + 5 + 3 + 3 = 16$
 $5 \times 2 = 10$
 $3 \times 2 = 6$
 $10 + 6 = 16$

答: 16 cm