

鳳山區忠孝國小 109 學年第二學期一年級數學科期中評量試題

一年 班 座號 _____ 姓名 _____

一、對的打○，錯的打×。5分

(○) (1) 在算式 $15-2=13$ 中，

2 稱作減數。

(×) (2) 比 13 多 4 的數是 19。

(×) (3) \triangle 旋轉 1 圈會變成 \circ

(○) (4) 算式 $8+5$ 和算式 $19-6$ 的

答案是一樣的。

(×) (5) 五巧板裡的圖形全部都是三角型。

二、填填看看：12分

1. 有 78 個布丁，每 10 個裝 1 盒，能夠裝滿 (7) 盒，還剩 (8) 個布丁。

2. 水桶的把手和門的把手，哪個的把手比較長？請問哪一個的把手比較長？

(水桶) 比較長。

3. 比 50 多 10 是 (60)，比 50 少 10 是 (40)，比 50 少 1 是 (49)。

4. 9 個①和 2 個⑩共是 (29)。

5. 10 朵花綁成一束，媽媽買了 6 束又 17 朵，合起來是 (77) 朵。

6. 寫出十位數字和個位數字

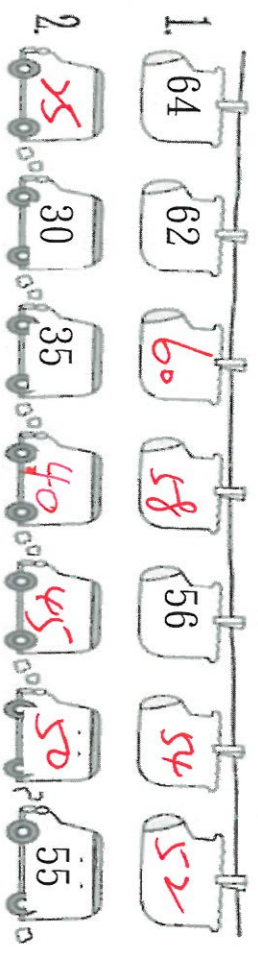
1.	十位	個位	2.	十位	個位
98	9	8	80	8	0

是 (9) 個十， (8) 個一。
是 (8) 個十， (0) 個一。

三、完成 81-100 的百數表：14分

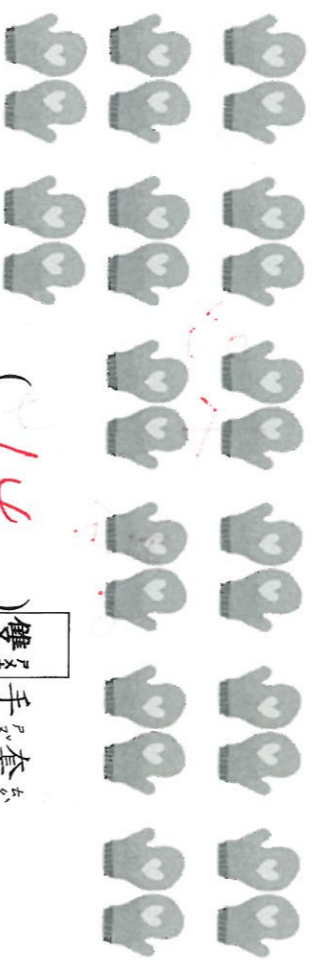
81	82	83	84	85	86	87	88	89	90
91	92	93	94	95	96	97	98	99	100

四、依照數的順序填空：8分



五、想一想，填一填：共 4 分

(1) 數數看看，有多少？



(2) 找出移動的那一塊三角，並把它圈起來。



六、把答案相同的連起來：10分

① 16-9	ウ	10-7	3
② 11-8	ウ	5+4	9
③ 15-7	ウ	8-1	7
④ 13-4	ウ	6+2	8
⑤ 11-6	ウ	5+0	5

七、先想一想，再填填看看：17分

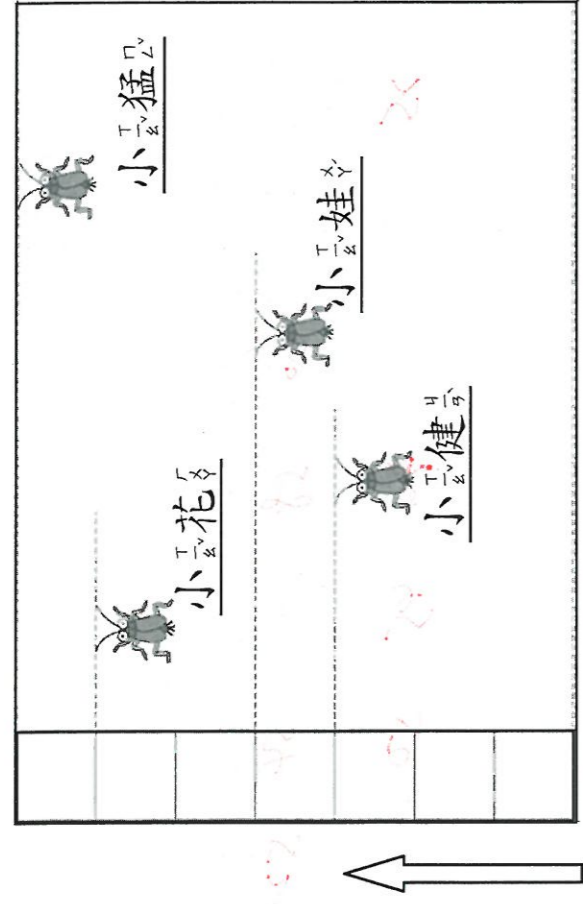
1. $15-5=10$ $15-6=9$ $15-7=(8)$ $15-8=(7)$	2. $7+4=11$ $7+5=12$ $7+6=(13)$ $7+7=(14)$
--	---

3. 有幾個積木？ 4分

(1) (9) 個

(2) (7) 個


4. 下面圖是螞蟻們的跳遠紀錄：



起跳線

- (1) 跳最遠的是(小猛)，跳最近的的是(小花)，最近的和最遠的格子相差(4)格。
- (2) 小花和小健共跳(10)格。

5.

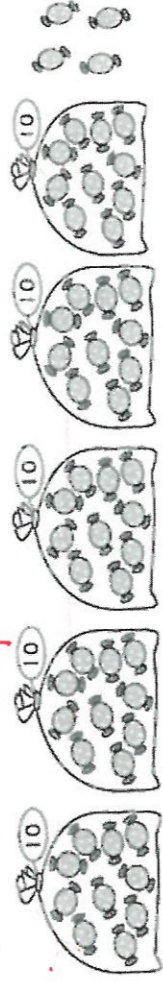


① 1把梳子和(6)個別針

一樣長。

② 1把梳子和2個夾子的長度，等於(9)個別針的長度。

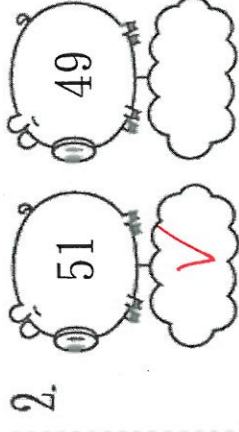
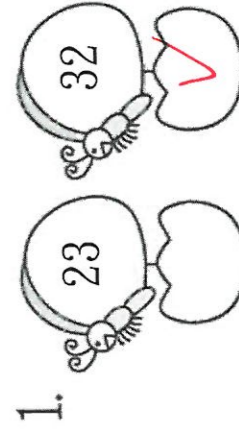
6.



全部有(54)顆糖果，拿走10顆，還有(44)顆糖果，再拿走10顆，還有(34)顆糖果。

八、大數的數打，小數的數打

4分



九、甜甜要去同學家玩，三條路各要走幾步？把最遠的路

在()中打○：6分

19步



十、應用題：20分

1. 有一些果凍，吃掉8個，還剩下7個，請問原來有幾個果凍？

算式： $8 + 7 = 15$

(15)個

2. 小熊有8顆彈珠，小胖有3

顆彈珠，小胖和小熊共有幾顆彈珠？

算式： $8 + 3 = 11$

(11)顆

3. 一盒披薩有10片，家裡現

在2盒，吃掉8片，還剩幾片披薩？

算式： $20 - 8 = 12$

(12)片

4. 佩佩借了7本故事書和19本漫畫書，漫畫書比故事書多幾本？

$19 - 7 = 12$

算式：

(12)本

5. 早修時，小丁已經寫了

9行生字，小丁再寫幾行

就是14行生字呢？

算式： $14 - 9 = 5$

(5)行