


高雄市鳳山區忠孝國民小學 110 學年度第一學期一年級數學科期中定期評量  
 一年\_\_班 座號:\_\_\_\_\_ 姓名:\_\_\_\_\_

一、勾選題：11 分

1. 數一數，下面哪些是對的？在 ( ) 裡打

√：8 分

ㄅ. ( )



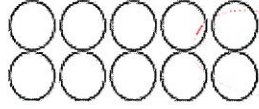
6 個

ㄆ. (√)




7 個

ㄊ. (√)



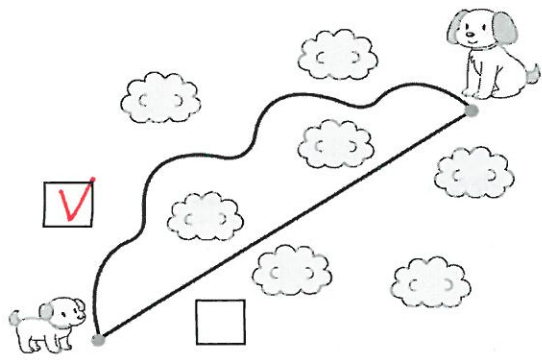
10 個

ㄊ. (√)



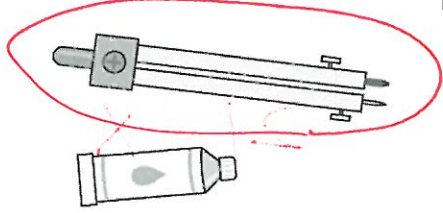
8 個

2. 小狗狗想回到媽媽身邊，走哪一條路是曲線，會比較遠？在 □ 中打√。3 分

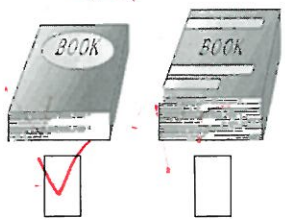


二、比比看：9 分


1. 比一比，把比較長的圈起來。



2. 比較薄的在 □ 中打√：



3. 比較高的在 □ 中打√：



三、連連看：26 分

1. 把一樣多的連起來：8 分

① 	ㄅ. 
② 	ㄆ. 
③ 	ㄇ. 
④ 	ㄏ. 

2. 多多少和多少合起來是 10？連連看。8 分

8	4
1	8
3	2
6	5
9	9
4	6
2	7
7	1
5	3

3. 從右邊算起，下面物品排在第幾個？連

左	右
① 	⑤ 
② 	④ 
③ 	③ 
第 三 個	第 二 個
第 四 個	第 一 個
第 五 個	第 五 個

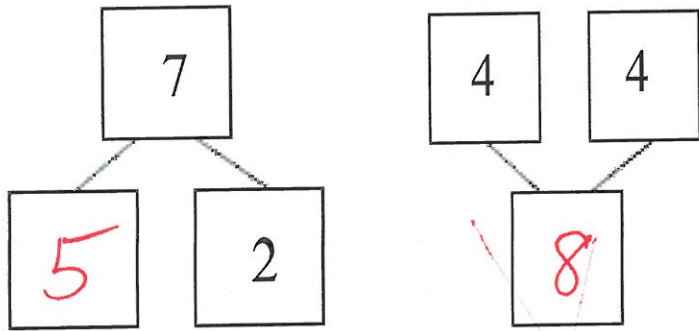
四、用另外兩種分法畫○分分看：8 分

① 		
② 		

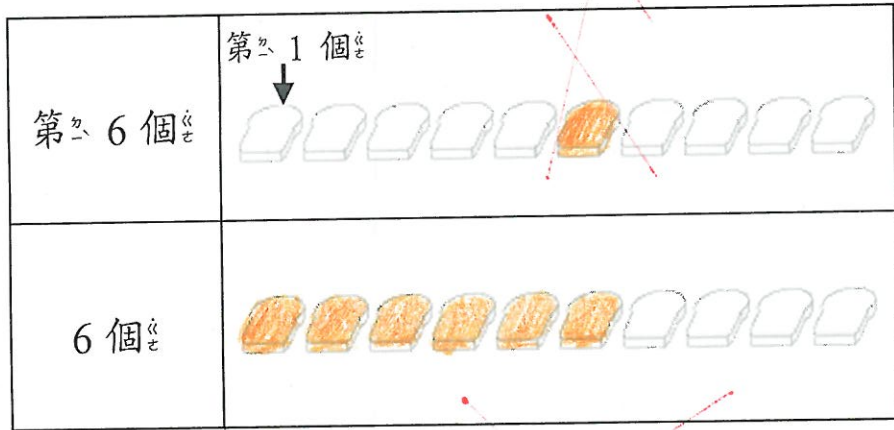


五、填填看看：22分

1. 填填看看：6分



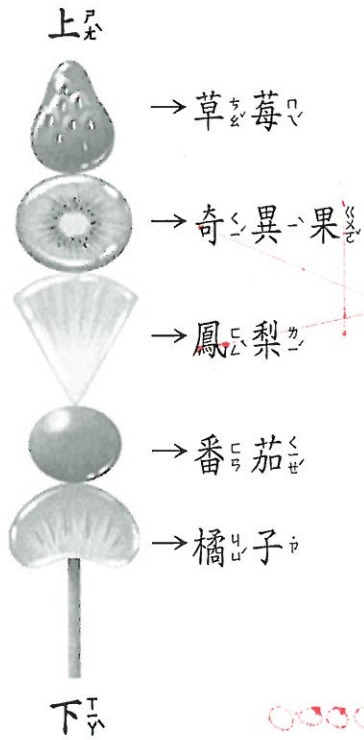
2. 依照指示用鉛筆塗上顏色：6分



3. 我會倒著數，填入數字：10分

30	29	28	27	26	25	24	23	22	21
20	19	18	17	16	15	14	13	12	11

六、看看圖做做看看：24分



1.

(1) 從上往下列數。

① 鳳梨是第(3)個。


② 數到鳳梨，共有(5)個水果。

③ 數到鳳梨，再往下列數2個是番茄，是第(4)個。

(2) 從下往列數第2個和從上往下列數第4

個都是(番茄)，奇異果。

2. 數一數，排在第幾隻？



① 是第1隻，是第(6)隻。

② 是第3隻，的旁邊是第(2)隻和第(4)隻。

3. 數一數，各有多少？填寫數字，最多的在

右邊打勾，最少的在右邊畫X：10分

①		27	
②		21	X
③		29	✓