

一、選擇題：每題 2 分、共 10 分

- (2) 1. 「1008」讀作什麼？  
 ① 一千零八 ② 一千零零八 ③ 一千零八 ④ 一千零零八
- (4) 2. 在數線上有兩個數在 1100 的右邊和 1200 的左邊，這個數不可能是下面哪一個？  
 ① 1105 ② 1188 ③ 1140 ④ 1214
- (3) 3. 一件洋裝賣 3880 元，一件牛仔褲賣 1095 元，一件洋裝比一件牛仔褲多幾元，選出最接近的答？  
 ① 1000 元 ② 2000 元 ③ 3000 元 ④ 4000 元
- (3) 4. 一個 50 元錢幣的厚度，大約有多厚？  
 ① 2 公分 ② 2 公尺 ③ 2 毫米 ④ 10 公分
- (1) 5. 下面哪一個長度最長？  
 ① 90 毫米 ② 8 公分 20 毫米 ③ 10 公分 ④ 9 公分 5 毫米

二、填入 >、< 或 =：每題 2 分、共 10 分

1. 2999 > 2091  
 2. 557 + 1456 > 1514 + 486  
 3. 1988 - 267 = 1721  
 4. 30 × 200 > 300 × 2  
 5. 5600 < 6500

三、寫出直式算看：每題 2 分、共 10 分

1. 5840 - 3456  
 A = 2384
2. 3924 + 2085  
 A = 6009
3. 350 × 3  
 A = 1050
4. 275 × 8  
 A = 2200
5. 501 × 7  
 A = 3507

四、填填看：每格 1 分、共 12 分

1. 3010 - 3000 - (2999) - (2980) - (2970) - (2960)

2. 用 3、1、7、0 四個數字組成一個四位的數，數字不能重複：  
 (1) 最大的數是 (7310)，最小的數是 (1037)。  
 (2) 最大和最小的數相差 (6273)。

3. 在對的  中打 。  
 媽媽要買 5990 元的氣炸鍋和 1980 元的牛排小排，付錢時只有千元鈔票，媽媽最少要拿出幾張千元鈔票才夠？  
 6 張  7 張  8 張  9 張

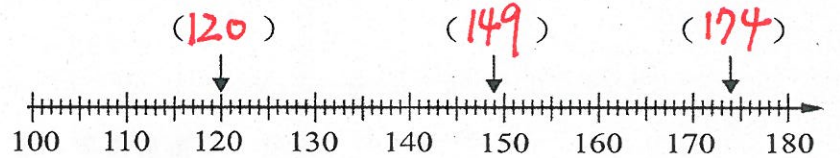
4. 在 ( ) 裡填入毫米或公分：  
 1 枝鉛筆長約 18 (公分)；1 塊橡皮擦長約 40 (毫米)
5. 15cm7mm + 14cm6mm = (30) cm (3) mm

五、看圖填填看：每格 1 分、共 15 分

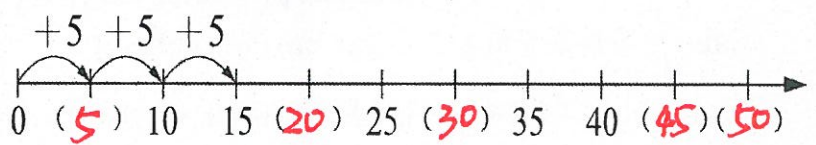
1. 先算出答案，再用直式記下來。  
 70 × 9 = (630)

		百位	十位	個位
			7	0
×				9
		6	3	0

2. 寫出數線上箭頭所指到的數字：




3. 觀察下面的數線並填填看。

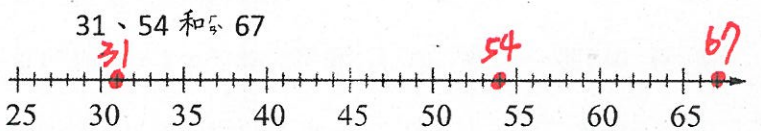


六、畫畫看：每個答案 1 分(第 1 題 2 分)、共 5 分

1. 漢神百貨公司衣服特賣會，今天賣出 3022 件衣服，用 1000、100、10 和 1 來表示賣出的數量：



2. 在下面的數線上標出各數的位數及數字：





七、圈圈看：每格 2 分、共 6 分

1.  $\square$  中的數字是「多」或「少」，圈出正確答案。

$$\begin{array}{r} 9 \square \\ \times \quad 5 \\ \hline 450 \end{array} \qquad \begin{array}{r} 57 \square \\ \times \quad 8 \\ \hline 4600 \end{array}$$

(0, 4, 8)      (3, 5, 0)

2. 圈圈看，找出正確答案。

球棒長 1 公尺 8 公分，也可以說成是幾毫米？



八、計算題：每格 2 分、共 8 分

1. 10 公分 + 4 毫米 + 9 公分 + 6 毫米 = (20) 公分

(0) 毫米

2. 9 公分 - 55 毫米

= (3) 公分 (5) 毫米

九、應用題：每題 3 分、共 24 分

1. 大賣場裡有 3000 瓶礦泉水，賣出 1673 瓶，還剩下幾瓶礦泉水？

$$3000 - 1673 = 1327$$

A: 1327 瓶

2. 弟弟每個月存 239 元，半年共存了幾元？

$$239 \times 6 = 1434$$

A: 1434 元

3. 一盒月餅賣 499 元，一箱有 5 盒，姊姊買了一箱，共花了幾元？

$$499 \times 5 = 2495$$


A: 2495 元

4. 繞操場跑 1 圈是 218 公尺，佳佳每天跑 5 圈，是跑了幾公尺？

$$218 \times 5 = 1090$$

A: 1090 公尺(m)

5. 蝸牛從甲地出發，經過乙地到達丙地，共爬了幾公分幾毫米？



$$10\text{cm} + 5\text{mm} + 68\text{mm} = 17\text{cm}3\text{mm}$$

A: 17 公分 3 毫米

6. 有甲、乙兩數，甲數是 1839，兩數的和是 6561，兩數相差多少？

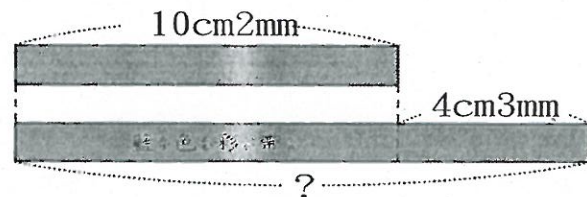
$$\text{乙數} = 6561 - 1839 = 4722$$

$$\text{甲} + \text{乙} = 1839 + 4722 = 6561$$

$$\text{乙} - \text{甲} = 4722 - 1839 = 2883$$

甲 + 乙 = 6561  
A: 乙 - 甲 = 2883

7. 下圖藍色紙帶的長度是幾公分幾毫米？



$$10\text{cm}2\text{mm} + 4\text{cm}3\text{mm} = 14\text{cm}5\text{mm}$$

8. 小美家七月的電話費是 2859 元，七月比六月少 352 元，六月和七月的電話費共是幾元？

$$6\text{月} \Rightarrow 2859 + 352 = 3211$$

$$6\text{月} + 7\text{月} \Rightarrow 3211 + 2859 = 6070$$

A: 6070 元

~ 恭喜你(妳)寫完了! 請再仔細檢查 1 遍喔 ~