

一、選擇題：每題 2 分、共 10 分

- () 1. 「1008」讀作什麼？
 ①一千零八 ②一千零八 ③一千零零八
 十 ④一千零零零八
- () 2. 在數線上，有一個數在 1100 的右邊和 1200 的左邊，這個數不可能是下面哪一個？
 ①1105 ②1188 ③1140 ④1214
- () 3. 一件洋裝賣 3880 元，一件牛仔褲賣 1095 元，一件洋裝比一件牛仔褲多幾元，選出最接近的答案？
 ①1000 元 ②2000 元 ③3000 元 ④4000 元
- () 4. 一個 50 元錢幣的厚度，大約有多厚？
 ①2 公分 ②2 公尺 ③2 毫米 ④10 公分
- () 5. 下面哪一個長度最長？
 ①90 毫米 ②8 公分 20 毫米 ③10 公分
 ④9 公分 5 毫米

二、填入 >、< 或 =：每題 2 分、共 10 分

1. 2999 2091
 2. 557 + 1456 1514 + 486
 3. 1988 - 267 1721
 4. 30 × 200 300 × 2
 5. 5600 6500

三、寫出直式算算看：每題 2 分、共 10 分

1. 5840 - 3456
2. 3924 + 2085
3. 350 × 3
4. 275 × 8
5. 501 × 7

四、填填看：每格 1 分、共 12 分

1. 3010 - 3000 - () - () - () - ()

2. 用 3、1、7、0 四個數字組成一個四位数，數字不能重複：
 (1) 最大的數是 ()，最小的數是 ()。
 (2) 最大和最小的數相差 ()。

3. 在對的 中打 。

媽媽要買 5990 元的氣炸鍋和 1980 元的牛排小排，付錢時只有千元鈔票，媽媽最少要拿出幾張千元鈔票才夠？

- 6 張 7 張 8 張 9 張

4. 在 () 裡填入毫米或公分：
 1 枝鉛筆長約 18 ()；1 塊橡皮擦長約 40 ()

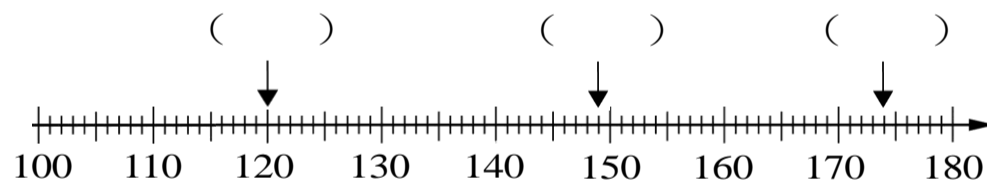
5. 15cm7mm + 14cm6mm = () cm () mm

五、看圖填填看：每格 1 分、共 15 分

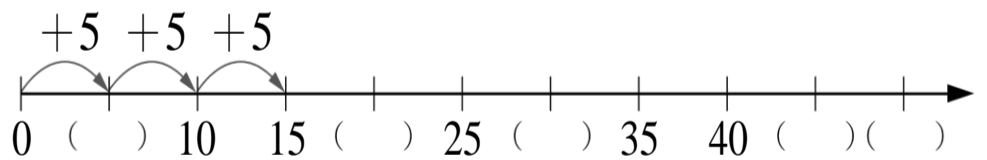
1. 先算出答案，再用直式記下來。
 70 × 9 = ()

	百位	十位	個位
×			

2. 寫出數線上箭頭所指的數字：



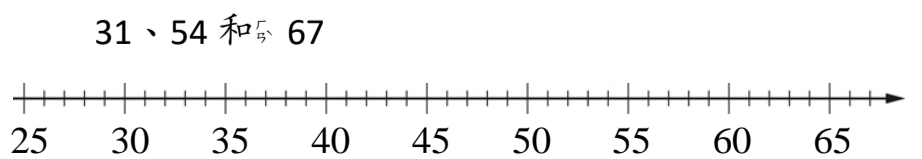
3. 觀察下面的數線並填填看。



六、畫畫看：每個答案 1 分(第 1 題 2 分)、共 5 分

1. 漢神百貨公司衣服特賣會，今天賣出 3022 件衣服，用 1000、 100、 10 和 1 來表示賣出的數量：

2. 在下面數線上標出各數的位數及數字：



七、圈圈看：每格 2 分、共 6 分

1. \square 中的數字是「多」少，圈出正確答案。

$$\begin{array}{r} 9 \square \\ \times \quad 5 \\ \hline 450 \end{array}$$

(0, 4, 8)

$$\begin{array}{r} 57\square \\ \times \quad 8 \\ \hline 4600 \end{array}$$

(3, 5, 0)

2. 圈圈看，找出正確的答案。

球棒長 1 公尺 8 公分，也可以說成是幾毫米？



八、計算題：每格 2 分、共 8 分

1. 10 公分 + 4 毫米 + 9 公分 + 6 毫米 = () 公分
() 毫米

2. 9 公分 - 55 毫米
= () 公分 () 毫米

九、應用題：每題 3 分、共 24 分

1. 大賣場裡有 3000 瓶礦泉水，賣出 1673 瓶，還剩下幾瓶礦泉水？

2. 弟弟每個月存 239 元，半年共存了幾元？

3. 一盒月餅賣 499 元，一箱有 5 盒，姊姊買了 1 箱，共花了幾元？

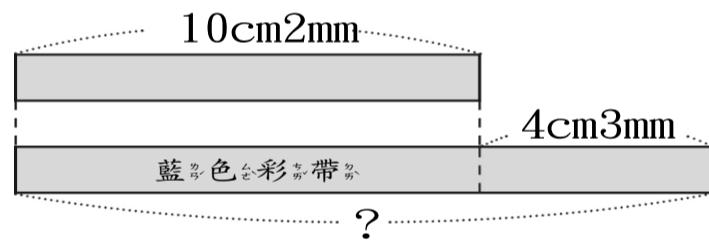
4. 繞操場跑 1 圈是 218 公尺，佳佳每天跑 5 圈，是跑了幾公尺？

5. 蝸牛從甲地出發，經過乙地到達丙地，共爬了幾公分幾毫米？



6. 有甲、乙兩數，甲數是 1839，兩數的和是 6561，兩數相差多少？

7. 下圖藍色紙帶的長度是幾公分幾毫米？



8. 小美家七月的電話費是 2859 元，七月比六月少 352 元，六月和七月的電話費共是幾元？

～ 恭喜你(妳)寫完了！請再仔細檢查 1 遍喔～