


一、選出最正確的答案：5分

1. (1) 「97-9」寫成直式，哪一個是正確的？

① 
$$\begin{array}{r} 97 \\ - 9 \\ \hline \end{array}$$
      ② 
$$\begin{array}{r} 97 \\ + 9 \\ \hline \end{array}$$
      ③ 
$$\begin{array}{r} 97 \\ - 9 \\ \hline \end{array}$$

2. (3) 下面哪一種東西可以裝水？



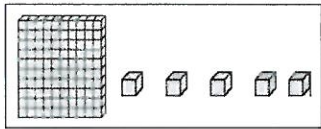
3. (2) 把甲、乙兩個容器裝滿水後，分別倒入兩個容量相同的杯子中，哪個容器的水比較少？



4. (3) 下面哪個寫法是正確的？

①  $146 > 194$       ②  $173 > 176$       ③  $114 < 183$

5. (2) 下面積木代表哪個數？



① 150      ② 105      ③ 155

二、寫成直式計算看看：8分

①  $97+36=133$

$$\begin{array}{r} 97 \\ +36 \\ \hline 133 \end{array}$$

②  $91-49=42$

$$\begin{array}{r} 91 \\ -49 \\ \hline 42 \end{array}$$

③  $66+23=89$

$$\begin{array}{r} 66 \\ +23 \\ \hline 89 \end{array}$$

④  $57-43=14$

$$\begin{array}{r} 57 \\ -43 \\ \hline 14 \end{array}$$

三、直式計算加驗算：6分

①  $80-73=7$

$$\begin{array}{r} 80 \\ -73 \\ \hline 7 \end{array}$$

驗算

$$\begin{array}{r} 7 \\ +73 \\ \hline 80 \end{array}$$

②  $46-34=12$

$$\begin{array}{r} 46 \\ -34 \\ \hline 12 \end{array}$$

驗算

$$\begin{array}{r} 12 \\ +34 \\ \hline 46 \end{array}$$

四、填填看看：40分(每格1分)


1. 可以換 (10) 個 ；

可以換 (10) 個 。

2. 1個百、2個十合起來是 (120) 。

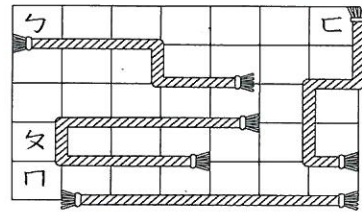
3. 一枝鉛筆賣35元，文文要付給老師板 (3) 個 和 (5) 個 。

4. 下面積木有多少？記在位值表上。



百位	十位	個位
1	8	0

5. 數一數：一格長度是1公分




- (1) A長 (6) 公分  
(2) A長 (8) 公分。  
(3) A長 (6) 公分。  
(4) C長 (6) 公分。

6. 按照數的順序填填看看

(1)  $124-134-144-154-164-174-184-194$

(2)  $185-180-175-170-165-160-155$



(a) 比160大的數有那些？

(166)、(194)、(170)

(b) 比140小的數有那些？

(114)、(123)、(127)

7. 在空格中填入 <、= 或 >

①  $50-15 > 25$

②  $51 = 15+36$

③  $18+45 > 65-5$

④  $38-6 < 38+6$

⑤  $67+9 = 76+0$

⑥  $26+24 > 40-5$


8. 將答案填入括號裡(不用計算)

★  $68-30=38$   
(1)  $38+30=(68)$   
(2)  $68-38=(30)$

★  $45+27=72$   
(1)  $72-27=(45)$   
(2)  $27+45=(72)$

9. 電池的長度是 (3) 公分

10.



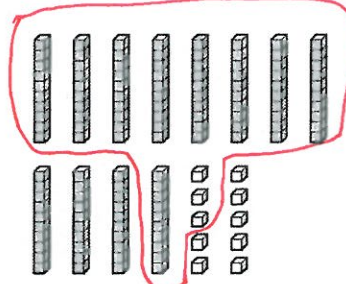
(1) 彩色筆長 (11) 公分。

(2) 膠水長 (7) 公分。

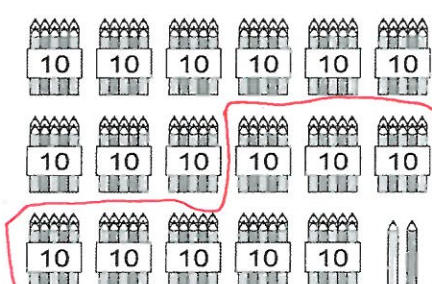
(3) 彩色筆和膠水誰比較長？ (彩色筆)

五、想一想，圈圈看看：6分

(1) 93

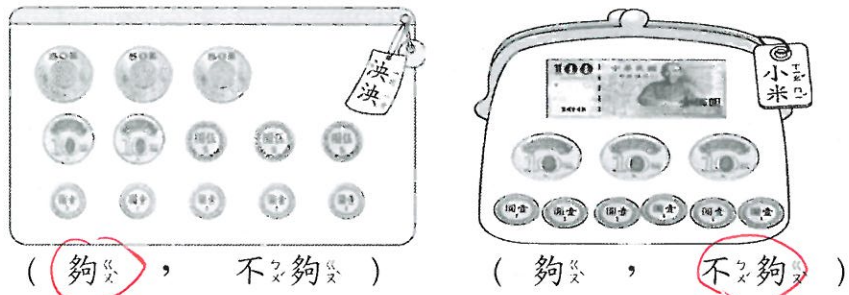


(2) 82





(3) 洪洪和小小米都想買 160 元的玩具，請你圈圈看，她們的錢夠不夠。



六、用直尺畫出 5 公分。(2 分)

七、圈圈看，哪一隻比較矮。(2 分)

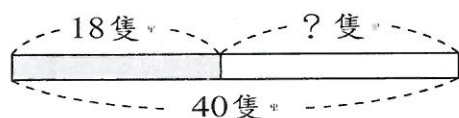


八、比比看，皮皮家今天誰喝最多的水？在  裡打勾。(3 分)



九、寫出算式做做看：28 分

1、小麗用陶土捏了 18 隻小兔子，姐姐也捏了一些，兩個人合起來有 40 隻小兔子。姐姐捏了幾隻小兔子？



★ 問題記成： $40 - 18 = 22$

$$\begin{array}{r} 40 \\ - 18 \\ \hline 22 \end{array}$$

答：( 22 ) 隻

2、二年 6 班的學生有 16 個男生和 12 個女生，二年 6 班有幾個學生？

★ 問題記成： $16 + 12 = 28$

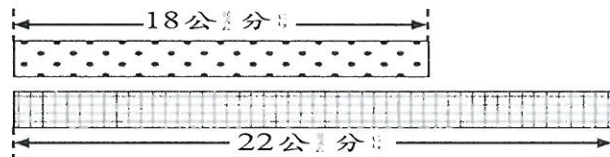
答：28 個

3、包子店今天賣出 63 個豆沙包和 48 個菜包，哪種包子賣得比較多？多幾個？

★ 問題記成： $63 - 48 = 15$

答：豆沙包比較多，多 15 個

4、下面兩條彩帶接起來有多長？



★ 問題記成： $18 + 22 = 40$

答：40 公分

5、一套故事書 99 元，文文買了 2 套，一共花了多少元？

★ 問題記成： $99 + 99 = 198$

答：198 元

6、高雄市鳳山區公車路線數大約 23 條，一共由 2 家業者提供運輸服務，路線多麼便捷又安全。

① 衛武營號公車原本有 34 個人，後來又有 15 個人上車，現在車上共有多少個人？

★ 問題記成： $34 + 15 = 49$

答：49 人

② 捷運紅線號公車原本有 25 個人，下一站 14 個人下車，沒有人上車，現在車上還有幾個個人？

★ 問題記成： $25 - 14 = 11$

答：11 人