

一、選出正確的答案：5分

1. ( ) 「 $97 - 9$ 」寫成直式，哪一個是正確的？

- ①  $\begin{array}{r} 97 \\ - 9 \\ \hline \end{array}$       ②  $\begin{array}{r} 97 \\ + 9 \\ \hline \end{array}$       ③  $\begin{array}{r} 97 \\ - 9 \\ \hline \end{array}$

2. ( ) 下面哪一種東西可以裝水？

- ①       ②       ③ 

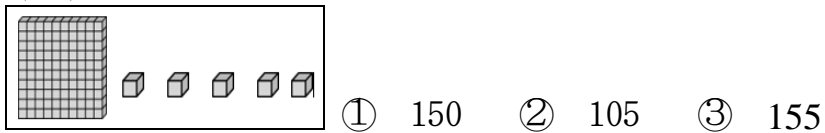
3. ( ) 把甲、乙兩個容器裝滿水後，分別倒入兩個容量相同的杯子中，哪個容器裝的水比較少？



4. ( ) 下面哪個寫法是正確的？

- ①  $146 > 194$       ②  $173 > 176$       ③  $114 < 183$

5. ( ) 下面積木代表哪個數？



二、寫成直式計算看看：8分

①  $97 + 36 =$

②  $91 - 49 =$

③  $66 + 23 =$

④  $57 - 43 =$

三、直式計算加驗算：6分



①  $80 - 73 =$



驗算

②  $46 - 34 =$



驗算

四、填填看看：40分(每格1分)

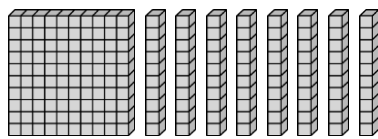
1.  可以換 ( ) 個  ；

 可以換 ( ) 個  。

2. 1個百、2個十合起來是 ( )

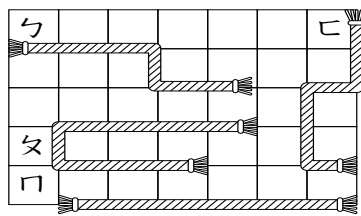
3. 一枝鉛筆賣35元，文文要付給老板 ( ) 個  和 ( ) 個  。

4. 下面積木有多少？記在位值表上。



百位	十位	個位

5. 數一數：一格長度是1公分




- (1) ㄅ長 ( ) 公分  
 (2) ㄆ長 ( ) 公分。  
 (3) ㄏ長 ( ) 公分。  
 (4) ㄏ長 ( ) 公分。

6. 按照數的順序填填看看

(1)  $124 - 134 - \square - 154 - \square - 174 - \square - \square$

(2)  $185 - 180 - \square - \square - 165 - \square - \square$



(a) 比160大的數有哪些？

( )、( )、( )

(b) 比140小的數有哪些？

( )、( )、( )

7. 在空格中填入 <、= 或 >

①  $50 - 15 \square 25$

②  $51 \square 15 + 36$

③  $18 + 45 \square 65 - 5$

④  $38 - 6 \square 38 + 6$

⑤  $67 + 9 \square 76 + 0$

⑥  $26 + 24 \square 40 - 5$

8. 將答案填入括號裡(不用計算)

★  $68 - 30 = 38$

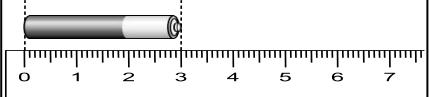
(1)  $38 + 30 = ( )$

(2)  $68 - 38 = ( )$

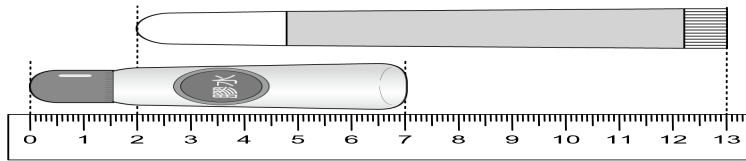
★  $45 + 27 = 72$

(1)  $72 - 27 = ( )$

(2)  $27 + 45 = ( )$

9.  電池的長度是 ( ) 公分

10.



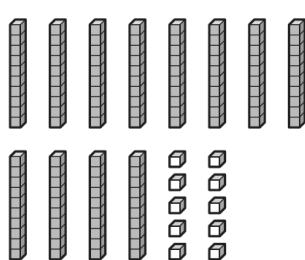
(1) 彩色筆長 ( ) 公分。

(2) 膠水長 ( ) 公分。


(3) 彩色筆和膠水誰比較長？ ( )

五、想一想，圖圖看看：6分

(1) 93



(2) 82



(3) 洪洪和小米都想買 160 元的玩具，

請你圈圖看，她們的錢夠不夠。




( 夠 ， 不夠 ) ( 夠 ， 不夠 )

六、用直尺畫出 5 公分。(2 分)

|

七、圈圖看，哪一隻比較矮。(2 分)



( 蜻蜓 ， 蝴蝶 )

八、比比看，皮皮家今天誰喝最多水？在  裡打勾。(3 分)



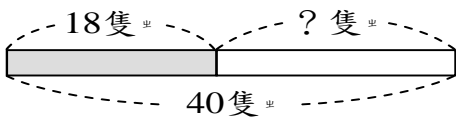
1 杯能倒滿 2 杯。

1 杯能倒滿 1 杯和 1 杯。



九、寫出算式做做看：28 分

1、小麗用陶土捏了 18 隻兔子，姐姐也捏了一些，兩人合起來有 40 隻兔子。姐姐捏了幾隻兔子？



★ 問題記成：\_\_\_\_\_

答：( ) 隻

2、二年 6 班的學生有 16 個男生和 12 個女生，二年 6 班有幾個學生？

★ 問題記成：\_\_\_\_\_

答：\_\_\_\_\_ 個

3、包子店今天賣出 63 個豆沙包和 48

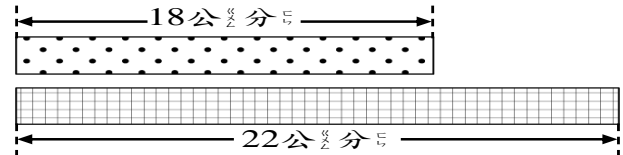
個菜包，哪一種包子賣得比較多？

多幾個？

★ 問題記成：\_\_\_\_\_

答：\_\_\_\_\_ 比較多，多 \_\_\_\_\_ 個

4、下面兩條彩帶接起來有多長？



★ 問題記成：\_\_\_\_\_

答：\_\_\_\_\_ 公分

5、一套故事書 99 元，文文買了 2 套，一共花了多少元？

★ 問題記成：\_\_\_\_\_

答：\_\_\_\_\_ 元

6、高雄市鳳山區公車路線數大約 23 條，一共由 2 家業者提供運輸服務，路線多便捷又安全。

① 衛武營號公車原本有 34 個人，後來又有 15 個人上車，現在車上共有多少個人？

★ 問題記成：\_\_\_\_\_

答：\_\_\_\_\_ 人

② 捷運紅線號公車原本有 25 個人，下一站 14 個人下車，沒有人上車，現在車上還有幾個個人？

★ 問題記成：\_\_\_\_\_

答：\_\_\_\_\_ 人