

高雄市鳳山區忠孝國民小學 110 學年度第一學期一年級數學科期末定期評量

年 班 座號： 姓名：

一、請將運算符號 $+$ 或 $-$ 填入 \square 中
(每答 2 分 12%)

① $8 \square 4 = 4$	② $9 \square 3 = 6$
③ $5 \square 5 = 10$	④ $8 \square 3 = 5$
⑤ $5 \square 3 = 8$	⑥ $6 \square 4 = 2$


二、填入正確的數字：
(每答 2 分 20%)

① 	②
③ 	④
⑤ $9 - 0 = ()$	⑥ $7 - 7 = ()$
⑦ $3 + 7 = ()$	⑧ $1 + 5 = ()$
⑨ $6 - 2 = ()$	⑩ $9 - 1 = ()$


三、看圖在 \square 中打 \checkmark ：
(每答 2 分 6%)

1. 做哪一件事花的時間比較長？在

\square 中打 \checkmark 。

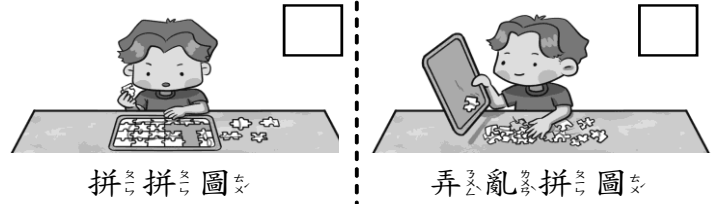


2. 傑克在晚上 9 點半睡覺，哪一個鐘面是正確的？在 () 裡打 \checkmark 。



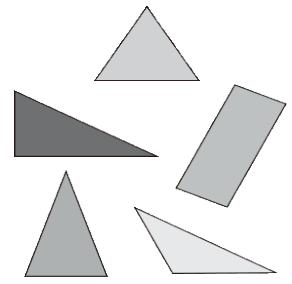
3. 做哪一件事花的時間比較短？在

\square 中打 \checkmark 。



四、圈一圈，依照提示圈出正確的答案
(每答 2 分 6%)

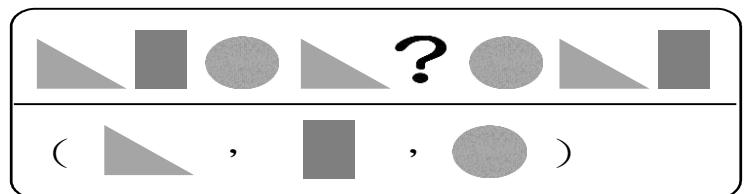
1. 哪一個圖形的形狀和其他的圖形不一樣？
圈起來 (2%)



2. 下面物品可以堆高，也容易滾動的，請把它圈起來。



3. 依照圖形的規律性，(?) 會是什麼圖形？請圈起來。

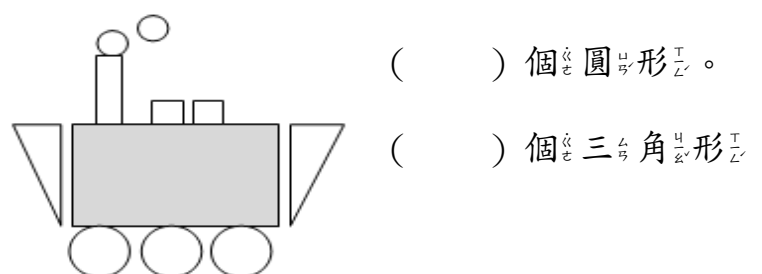


五、填一填：
(每答 2 分 10%)

1. 按照事情發生的先後順序，在 \square 中填上數字 1、2、3。

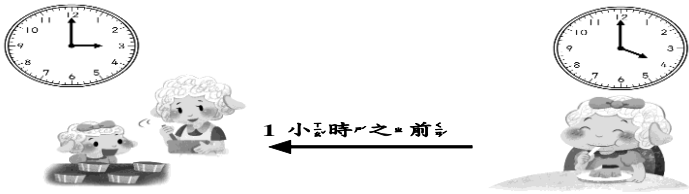


2. 數一數，各有幾個？




六、依-照-敘-述，填-一-填 (每答2分4%)

1. 小花下午4點吃點心，1小時之前是()點



2. 媽媽上午9點去市場買菜，再過2小時之後回到家，請問：
媽媽上午()點回到家。



七、依-照-一天之先後順序在方格中填入代號1,2,3,4 (每答2分16%)

下午		早上	
() 點半		() 點半	
晚上		下午	
() 點		() 點	

八、應用題：把做法用算式記下來(20%)

1. 樹上有7隻猴子，又跳來2隻，現在樹上有幾隻猴子？ (3%)
算式：
有()隻

2. 1包糖果有3顆，兩包共有幾顆糖果？ (3%)
算式：
共()顆

3. 哥哥有6顆糖果，妹妹沒有糖果，哥哥比妹妹多幾顆糖果？ (3%)
算式：

多()顆

4. 小靜買了2個布丁和6個蛋糕，布丁比蛋糕少幾個？ (4%)

畫○：布丁
蛋糕

算式：

少()個

5. 阿寶今年8歲。請問：

① 阿寶明年是幾歲？ (3%)

算式：

()歲

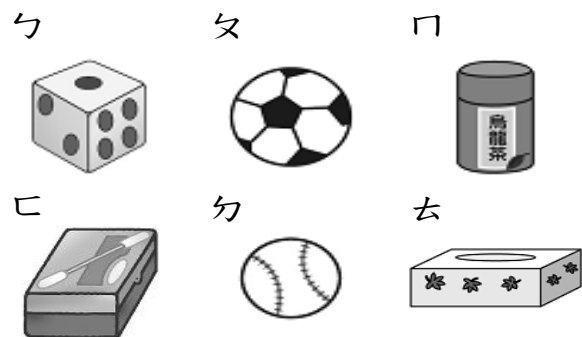
② 小志比阿寶少3歲，小志今年幾歲？用畫○做做看。 (4%)

畫○：

算式：

()歲

九、分一分，把正確的代號填在()裡： (每答1分6%)



- 像 ㄇ 的 東 西 有 ()。
- 像 ㄉ 的 東 西 有 ()。
- 像 ㄆ 的 東 西 有 () 和 ()。
- 像 ㄏ 的 東 西 有 () 和 ()。