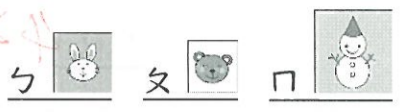



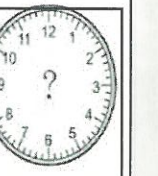






一、選擇題：5分

1. (1) 比比看，下面哪一個圖最大？
 ① ② ③
2. (3) 鐘面上長的針又叫做
 ① 時針 ② 秒針 ③ 分針
3. (2) 在 $7 \times 6 = 42$ 的算式中，哪個數字是乘數？
 ① 7 ② 6 ③ 42
4. (3) 哪個時間不在3時到5時之間？
 ① 3:59 ② 4:59 ③ 5:59
5. (1) 一盒布丁有7個，3盒布丁共有幾個？下面哪個算式不正確？
 ① $3 \times 7 = 21$ ② $7 \times 3 = 21$ ③ $7 + 7 + 7 = 21$

二、填填看：28分

1. 長針走1小格是(1)分鐘，走1大格是(5)分鐘，走1圈是(60)分鐘。
2. 短針走1大格是(60)分鐘，也就是(1)小時。
3. 每串香蕉有4根，4的(7)倍是28，一共有(28)根香蕉。
4. $8 + 8 + 8 + 8 + 8 + 8 = (8) \times (6)$
5. 9×6 是(6)個9，也就是9的(6)倍。
6. 6的8倍比6的4倍多(4)個6。
7. 5×7 和 5×6 相差(5)。
8. 8×8 比8的5倍多 $8 \times (3)$
9. 填出正確的時分：
 - (1)  2小時前 
 - (2)  4小時後 

下午2時 下午(4)時 下午5時 下午(9)時

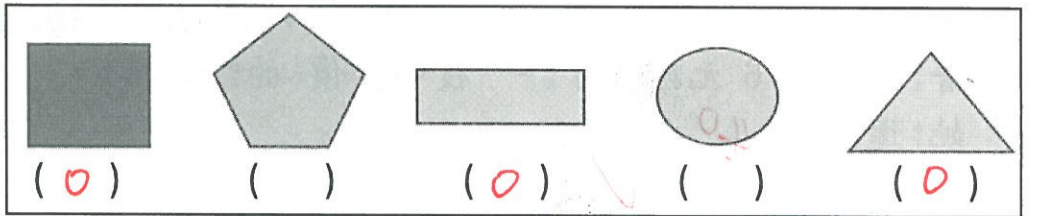
10. (1)  有(28)個。
 (2)  有(26)個。
 (3)  和  拼的面積比較大。

11. 完成3、4、5、8的乘法表。


算式	3×4	3×5	3×6	4×7	4×8	4×9
答案	12	15	18	28	32	36
算式	5×4	5×5	5×6	8×7	8×8	8×9
答案	20	25	30	56	64	72

三、做做看：20分


1. 哪些形狀可以一個緊貼著一個，拼出沒有縫隙的圖案？在()裡打○。




2. 先在數字鐘上填入正確的時刻，再按照時間的先後順序填入1、2、3、4。

①  3


上午 8 : 17

②  2

上午 7 : 28

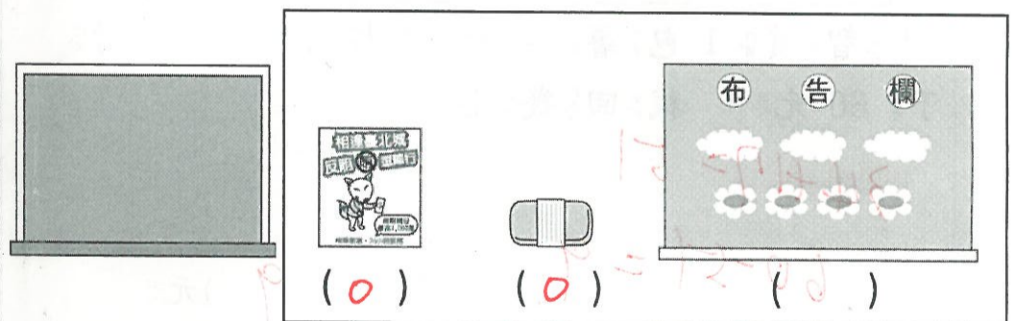
③  1

上午 5 : 27

④  4

上午 11 : 13


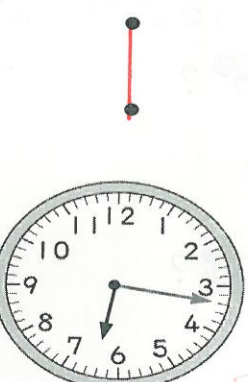

3. 比黑板小的物品在()裡打○



四、把意思相同的連起來：4分

$2 + 2$	●	5 的 2 倍
$5 + 5$	●	2 的 5 倍
$2 + 2 + 2 + 2 + 2$	●	有 2 個 2
$5 + 5 + 5 + 5 + 5$	●	有 5 個 5

五、連到正確的時刻：3分

4時18分	6時17分	5時12分
		

六、對的做方法打勾和寫出答案：4分

1. 姐姐有 25 張貼紙，給同學 15 張，又給妹妹 8 張，她還剩下 () 張貼紙。

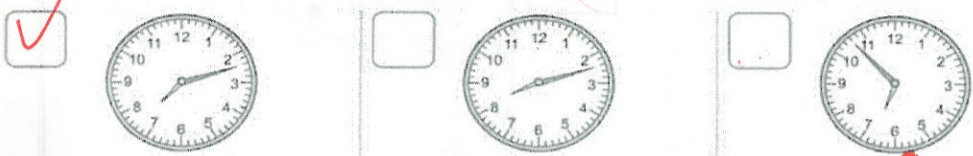
- $25 + 15 = 40$ $25 - 15 = 10$ $25 + 15 = 40$
 $40 - 8 = 32$ $10 - 8 = 2$ $40 + 8 = 48$

2. 妹妹有 14 元，然後又存了 32 元，接著花了 6 元買了一枝特價的冰棒，她還有 () 元。


- $32 - 14 = 18$ $32 + 14 = 46$ $6 + 14 = 20$
 $18 - 6 = 12$ $46 - 6 = 40$ $20 + 32 = 52$

七、哪個鐘面正確，在 中打勾 (4分)


1. 早上 7 點多，盈盈準備出門上學



2. 早上 11 點多，盈盈準備吃午餐



八、看圖做做看：4分



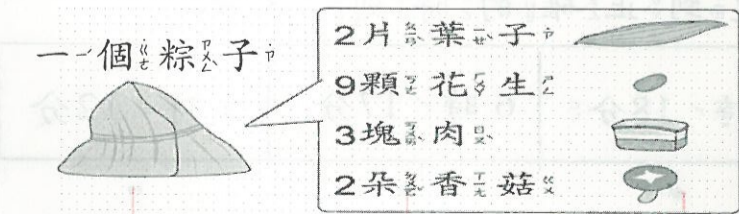
(1) 小智買 1 包薯條和 1 杯飲料，付了 60 元，找回幾元？

$34 + 17 = 51$
 $60 - 51 = 9$ 答：(9) 元

(2) 多多帶了 90 元想買 2 杯飲料和 1 杯聖代，錢夠不夠？差多少錢？

~~$17 + 17 = 34$
 $34 + 60 = 94$
 $94 - 90 = 4$ 答：(不夠)，(4) 元~~

九、奶奶要包 10 個粽子。用乘法算式做做看：(4分)



1. 需要幾朵香菇？

$2 \times 10 = 20$ 答：(20) 朵

2. 需要幾塊肉？

$3 \times 10 = 30$ 答：(30) 塊

十、寫出算式做做看：24分

1. 一袋麵包有 7 個，丹丹買了 6 袋，共有幾個麵包？

$7 \times 6 = 42$
 答：(42) 個

2. 一串葫蘆有 9 顆番薯，4 串葫蘆共有幾顆番薯？再多 1 串共有幾顆番薯？

$9 \times 4 = 36$
 $36 + 9 = 45$ 答：(36) 顆，(45) 顆

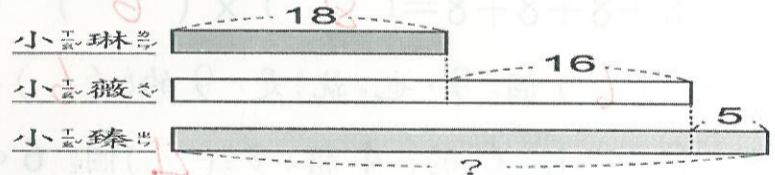
3. 光光有 28 枝冰棒，妮妮比他多 19 枝冰棒，兩人共有多少枝冰棒？

先算： $28 + 19 = 47$
 再算： $47 + 28 = 75$ 答：(75) 枝

4. 一盒水果禮盒有 2 顆甜柿和 5 顆蘋果，阿姨買了 8 盒，共有幾顆水果？

先算： $2 + 5 = 7$
 再算： $7 \times 8 = 56$ 答：(56) 顆

5. 小琳和同學玩桌遊，小琳手上有 18 張桌遊卡，小薇比小琳多 16 張桌遊卡，小臻比小薇多 5 張桌遊卡，小臻有多少張桌遊卡？



先算： $18 + 16 = 34$
 再算： $34 + 5 = 39$ 答：(39) 張

6. 盈盈有 54 元，爸爸又給了 43 元。

(1) 她買完 28 元的筆之後，剩下幾元？

先算： $54 + 43 = 97$
 再算： $97 - 28 = 69$ 答：(69) 元

(2) 如果改買 15 元的尺，剩下幾元？

$97 - 15 = 82$
 答：(82) 元

7. 哲倫下午 4 點放學，7 點寫完作業，8 時洗澡休息，10 點上床睡覺，請問哲倫從寫完作業到上床睡覺共花了幾小時？

$10 - 7 = 3$
 答：(3) 小時