
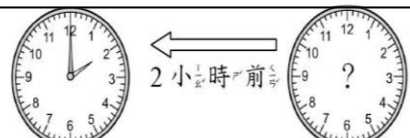



一、選擇題：5分





- () 比比看，下面哪一個圖最大？
 ① □ ② ㄨ ③ ㄣ
- () 鐘面上長的針又叫做
 ① 時針 ② 秒針 ③ 分針
- () 在 $7 \times 6 = 42$ 的算式中，哪個數字是乘數？
 ① 7 ② 6 ③ 42
- () 哪個時間不在 3 時到 5 時之間？
 ① 3:59 ② 4:59 ③ 5:59
- () 一盒布丁有 7 個，3 盒布丁共有幾個？下面哪個算式不正確？
 ① $3 \times 7 = 21$ ② $7 \times 3 = 21$ ③ $7 + 7 + 7 = 21$

二、填充題：28分

- 長針走 1 小格是 () 分鐘，走 1 大格是 () 分鐘，走 1 圈是 () 分鐘。
- 短針走 1 大格是 () 分鐘，也就是 () 小時。
- 每串香蕉有 4 根，4 的 () 倍是 28，一共有 () 根香蕉。
- $8 + 8 + 8 + 8 + 8 + 8 = () \times ()$
- 9×6 是 () 個 9，也就是 9 的 () 倍。
- 6 的 8 倍比 6 的 4 倍多 () 個 6。
- 5×7 和 5×6 相差 ()。
- 8×8 比 8 的 5 倍多 $8 \times ()$
- 填出正確的時分：

(1)  下午 2 時 下午 () 時

(2)  下午 5 時 下午 () 時

- (1)  有 () 個。
- (2)  有 () 個。
- (3) (, ) 拼的的面積比較大。

11. 完成 3、4、5、8 的乘法表。

| | | | | | | |
|----|--------------|--------------|--------------|--------------|--------------|--------------|
| 算式 | 3×4 | 3×5 | 3×6 | 4×7 | 4×8 | 4×9 |
| 答案 | | | | 28 | | |
| 算式 | 5×4 | 5×5 | 5×6 | 8×7 | 8×8 | 8×9 |
| 答案 | | 25 | | | 64 | |

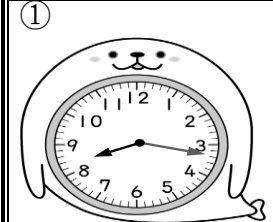
三、做做看：20分


- 哪些形狀可以一個緊貼著一個，拼出沒有縫隙的圖案？在 () 裡打 \bigcirc 。




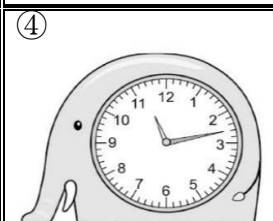
- 先在數字鐘上填入正確的時刻，再

按照時間的先後順序填入 1、2、3、4。


①  上午 _____ : _____

②  上午 _____ : _____

③  上午 _____ : _____

④  上午 _____ : _____

- 比黑板小的物品在 () 裡打 \bigcirc




四、把意思相同的連起來：4分

| | | |
|---------------------|---|---------|
| $2 + 2$ | • | 5 的 2 倍 |
| $5 + 5$ | • | 2 的 5 倍 |
| $2 + 2 + 2 + 2 + 2$ | • | 有 2 個 2 |
| $5 + 5 + 5 + 5 + 5$ | • | 有 5 個 5 |

五、連到正確的時刻：3分

| | | |
|----------|----------|----------|
| 4 時 18 分 | 6 時 17 分 | 5 時 12 分 |
| • | • | • |
| • | • | • |



六、對的做方法打勾和寫出答案：4分

1. 姐姐有 25 張貼紙，給同學 15 張，又給妹妹 8 張，她還剩下 () 張貼紙。


- $25 + 15 = 40$ $25 - 15 = 10$ $25 + 15 = 40$
 $40 - 8 = 32$ $10 - 8 = 2$ $40 + 8 = 48$

2. 妹妹有 14 元，然後又存了 32 元，接著花了 6 元買了一枝特價的冰棒，她還剩下 () 元。


- $32 - 14 = 18$ $32 + 14 = 46$ $6 + 14 = 20$
 $18 - 6 = 12$ $46 - 6 = 40$ $20 + 32 = 52$

七、哪個鐘面正確，在 中打勾 (4分)

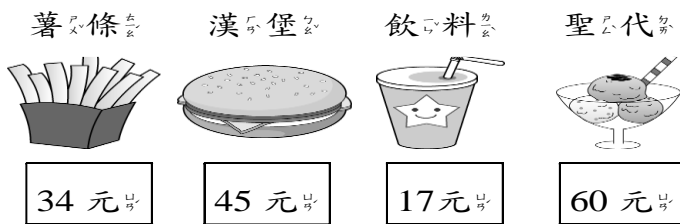
1. 早上 7 點多，盈盈 準備出門上學



2. 早上 11 點多，盈盈 準備吃午餐



八、看圖做做看：4分



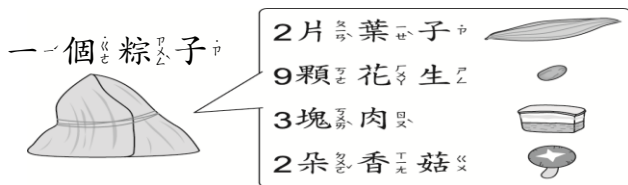
(1) 小智買 1 包薯條和 1 杯飲料，付了 60 元，找回幾元？

答：() 元

(2) 多多帶了 90 元想買 2 杯飲料和 1 杯聖代，錢夠不夠？差多少錢？

答：()，() 元

九、奶奶要包 10 個粽子。用乘法算式做做看：(4分)



1. 需要幾朵香菇？

答：() 朵

2. 需要幾塊肉？

答：() 塊

十、寫出算式做做看：24分

1. 一袋麵包有 7 個，丹丹買了 6 袋，共有幾個麵包？

答：() 個

2. 一串糖葫蘆有 9 顆番茄，4 串糖葫蘆共有幾顆番茄？再多 1 串共有幾顆番茄？

答：() 顆，() 顆

3. 光光有 28 枝冰棒，妮妮比他多 19 枝冰棒，兩人共有多少枝冰棒？

先算：

再算：

答：() 枝

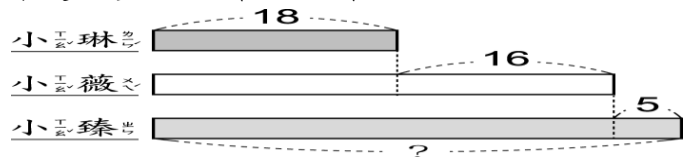
4. 一盒水果禮盒有 2 顆甜柿和 5 顆蘋果，阿姨買了 8 盒，共有幾顆水果？

先算：

再算：

答：() 顆

5. 小琳和同學玩桌遊，小琳手上有 18 張桌遊卡，小薇比小琳多 16 張桌遊卡，小臻比小薇多 5 張桌遊卡，小臻有多少張桌遊卡？



先算：

再算：

答：() 張

6. 盈盈有 54 元，爸爸又給了 43 元。

(1) 她買完 28 元的筆之後，剩下幾元？

先算：

再算：

答：() 元

(2) 如果改買 15 元的尺，剩下幾元？

答：() 元

7. 哲倫下午 4 點放學，7 點寫完作業，8 時洗澡休息，10 點上床睡覺，請問哲倫從寫完作業到上床睡覺共花了幾小時？

答：() 小時