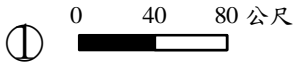
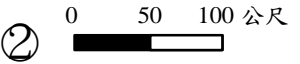
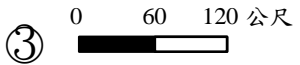
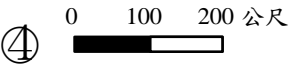


一、選擇題：(每題 2 分，共 60 分)

- () 1. 關於傳統家鄉的生活，下列敘述何者正確？ ①常常要外出應酬 ②生活緊張忙碌 ③早睡早起 ④夕陽西下，開始拿著鋤頭下田耕種。
- () 2. 下列哪一項不是從事農業和漁業的先民共通的地方？ ①都會參考農民曆來進行工作 ②會根據四季的變化而從事不同的工作 ③工作的項目與內容都一樣 ④都遵循「日出而作，日落而息」的自然規律。
- () 3. 下列哪一個原住民會配合飛魚季節從事捕撈活動？ ①布農族 ②泰雅族 ③賽夏族 ④雅美族(達悟族)。
- () 4. 關於現代生活的作息，下列敘述何者錯誤？ ①學生的學習活動，較集中在週一至週五 ②我國一直都實施週休一日制 ③是週休二日制，一星期工作五天，休息兩天 ④有二十四小時營業的商店。
- () 5. 為了紀念愛國詩人屈原的節慶是哪一個？ ①元宵節 ②清明節 ③端午節 ④中秋節。
- () 6. 下列哪些屬於現代工商業生活的特色？ (甲)採用陽曆星期制 (乙)生活步調緩慢 (丙)可隨時與外地親友聯絡 (丁)生活便利 ①丙丁 ②甲乙丙 ③甲丙丁 ④乙丙丁。
- () 7. 下列哪一項不是現代人仍會參考農民曆的重要大事？ ①開市 ②看醫生 ③搬家 ④結婚
- () 8. 下列何者是端午節插艾草的意義？ ①祈求豐收 ②祭拜祖先 ③祈求平安 ④普渡亡靈。
- () 9. 原住民族的傳統祭典大多具有什麼含義？ ①慎終追遠 ②敬老尊賢 ③喜愛表演 ④慶祝豐收。
- () 10. 透過傳統節慶的活動，我們可以體會到什麼？ ①每個節日只是先民休息的時間，不具意義 ②傳統節慶的民俗活動，在現代生活中已完全消失 ③帶來歡樂，沒有特別的意思 ④先民敬天、惜物與愛人的生活智慧。
- () 11. 下列何者不是我國的傳統節日？ ①中秋節 ②端午節 ③耶誕節 ④清明節
- () 12. 下列何者是依照陽曆制定的節日？ ①清明節 ②重陽節 ③端午節 ④中秋節
- () 13. 有關現代的節日，下列敘述何者錯誤？ ①重視各行各業 ②有屬於國家自己的節日 ③出現許多按陽曆安排的節日 ④不重視個人，沒有屬於自己的節日。
- () 14. 下列何者不是現代才有的節日？ ①農民節 ②國慶日 ③中秋節 ④父親節
- () 15. 下列哪一個節日表達社會對女性的尊重？ ①國際護師節 ②婦女節 ③教師節 ④農民節。
- () 16. 關於每個人在社會上的角色，下列敘述何者錯誤？ ①職業不分貴賤 ②兒童是國家未來的主人翁 ③青年是國家的棟梁 ④女性的地位要比男性低。
- () 17. 臺灣目前有各式各樣的節日，如春節、端午節、國慶日、耶誕節等，此種情況可以反映出下列何種事實？ ①皆依陽曆安排節慶 ②所有節日都以農曆安排 ③家鄉社會多元的風貌 ④所有節日都從西方引進。
- () 18. 下列哪個節日與南丁格爾相關？ ①勞動節 ②國際護師節 ③母親節 ④律師節。
- () 19. 我們可以用哪些方式來保存傳統的文化？ ①成立戲曲學校 ②舉辦傳統技藝比賽 ③學習傳統技藝 ④以上皆是。

- () 20. 臺南市 白河區的居民想要結合當地的物產，舉辦活動，吸引民眾前來觀光，請問他們可以設計什麼樣的主題活動？
 ①欣賞蓮花的美麗容顏，品嚐美味的蓮花大餐 ②品嚐小米釀的酒及小米做的麻糬
 ③秋季賞柿又品柿，讓你柿柿如意 ④客家桐花季~舉行浪漫又幸福的桐花婚禮。
- () 21. 臺東縣 關山鎮結合哪一族原住民族的祭典和親水公園，而成為當地新景點？
 ①卑南族 ②雅美族 (達悟族)
 ③阿美族 ④布農族。
- () 22. 六十石山是下列何處的知名景點？
 ①臺南市 白河區 ②花蓮縣 富里鄉
 ③屏東縣 東港鎮 ④彰化縣 鹿港鎮。
- () 23. 下列四種比例尺的地圖，表示在地圖上 1 公分的距離，何者代表的實際距離最短？
 ①  ② 
 ③  ④ 。
- () 24. 如果想要快速找到住家附近公園的所在位置，閱讀地圖時，應該特別注意下列哪一項訊息？ ①圖名 ②比例尺 ③圖例 ④地圖的紙質。
- () 25. 下列哪一項不是地圖的主要功能？ ①判斷某地點的方向 ②知道當地居民的消費喜好 ③尋找自己想要前往的目的地及相關交通路線 ④知道自己的所在位置。
- () 26. 我們無法利用地圖上的比例尺，得知下列何項訊息？ ①地圖縮小的程度 ②地圖和實際距離的比例 ③地圖的方向 ④實際距離。
- () 27. 下列何者不是航空照片圖的特色？
 ①是從空中拍攝的照片 ②尋找特別的景物較困難 ③內容多而複雜 ④景物用符號表示。
- () 28. 玉民想要安排一趟環島旅行，下列何者能協助他們判斷正確路線以到達各個目的地？ ①臺北市街道圖 ②臺灣各縣市鄉鎮地圖 ③臺灣河川分布圖 ④臺灣航空

照片圖。

- () 29. 下列哪一種地圖最可能會標示出高雄市街道名稱？ ①世界地圖 ②臺灣行政區圖
 ③高雄市地圖 ④臺灣河川分布圖。
- () 30. 如果沒有方向標時，地圖中常畫有圖框，可以用圖框的右方代表哪個方向？
 ①東方 ②西方 ③南方 ④北方。

二、是非題：(每題 1 分，共 8 分)

- () 1. 家鄉的傳統生活和現代的生活完全不同，所以沒有辦法結合。
- () 2. 「日出而作，日落而息」是家鄉傳統生活的特色。
- () 3. 地圖的圖名主要是依照個人的喜好來命名的。
- () 4. 圖例符號雖然可自行設計，但為了方便辨識，相同類型的景物在同一張地圖上會使用相同符號。
- () 5. 雖然時代在進步，但家鄉的風貌是永遠不會改變的。
- () 6. 每個人的家鄉都有自己的歷史和故事，也有自己的風俗習慣和生活方式。
- () 7. 陽曆又稱為國曆，最大的特色是一週七天的星期制。
- () 8. 現代人逐漸從陽曆改成以農曆為主的生活習慣。

三、填填看：(每個答案 1 分，共 20 分)

1. 請將下列正確的答案代碼填入 () 中

(答案不重複)。

甲、警察節 乙、開國紀念日 丙、勞動節
 丁、行憲紀念日 戊、母親節 己、青年節
 庚、醫師節 辛、婦女節

①為紀念國家的歷史和重大事件而定的節日

()

②為了尊敬各行各業而定的節日 ()

③為了尊重不同身分、不同階段的個人而定的

節日 ()

2.請找出下列傳統節慶的習俗活動，將答案代號填入()中。

- 甲、祭拜亡故親人、掃墓祭祖
- 乙、祭拜孤魂、放水燈
- 丙、賞月、吃月餅和柚子
- 丁、賞花燈、吃元宵
- 戊、插艾草、配戴香包
- 己、合唱祈禱豐收歌
- 庚、登高、放風箏
- 辛、全家團圓、到親友家拜年

- () ① 中秋節。
- () ② 播種祭。
- () ③ 元宵節。
- () ④ 除夕、春節。
- () ⑤ 重陽節。
- () ⑥ 端午節。
- () ⑦ 清明節。
- () ⑧ 中元節。

3.請將下列相關的敘述配對，並將答案代號填寫於()中。

- 甲、衛星轉播 乙、陽曆 丙、夜市
- 丁、行事曆

- () ① 可記錄、規畫自己的生活事務。
- () ② 人們可即時觀賞國際各種賽事。
- () ③ 晚上人們可在此購物、吃東西。
- () ④ 現代人們生活作息的依據。

四、勾選題：(每格1分，共8分)

1. 我們可以運用哪些方法，有效的保存傳統文化？

請在□中打√。

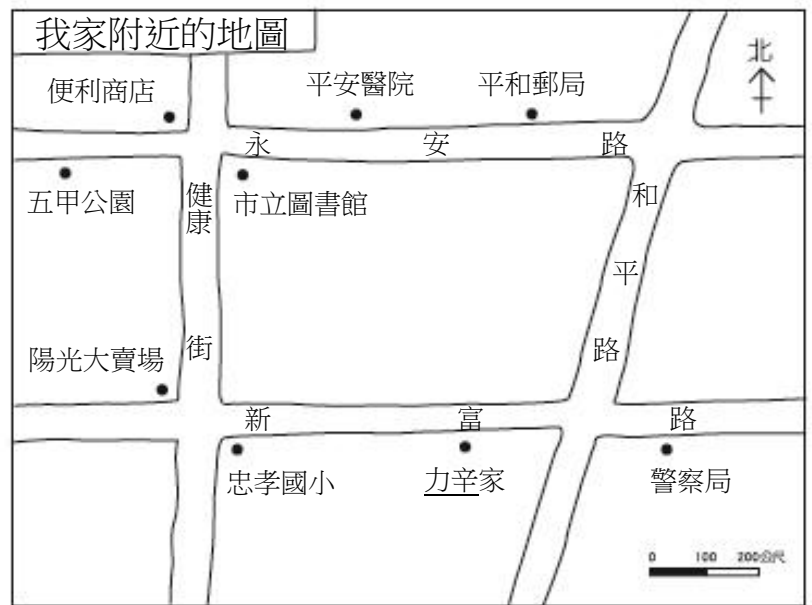
- ① 成立歌仔戲學校。
- ② 學習欣賞西洋的藝術。
- ③ 結合文化和產業，發展出家鄉特色。
- ④ 成立民俗文物館。

2. 我們應該以怎樣的態度看待家鄉文化？

請將正確的，在□中打√。

- ① 保有家鄉優良的傳統文化。
- ② 認為傳統才是好的，不需要新文化。
- ③ 保留傳統文化，不准有新的改變。
- ④ 適時結合傳統與現代的文化。

五、活用題：(每答2分，共4分)



1. 力辛畫了一張家裡附近的地圖，請依照地圖內容回答問題。

() (1) 依照方向標，忠孝國小在力辛家的哪個方位？ ①東方 ②西方 ③南方 ④北方。

(2) 請你幫力辛設計一個圖案代表郵局：

